



МИНИСТЕРСТВО НАУКИ И ВЫСШЕГО ОБРАЗОВАНИЯ
РОССИЙСКОЙ ФЕДЕРАЦИИ

Федеральное государственное бюджетное образовательное учреждение
высшего образования
«Магнитогорский государственный технический университет им. Г.И.
Носова»



УТВЕРЖДАЮ
Директор ИЕиС
Ю.В. Сомова

02.02.2026 г.

РАБОЧАЯ ПРОГРАММА ДИСЦИПЛИНЫ (МОДУЛЯ)

МАТЕМАТИКА

Направление подготовки (специальность)
27.03.01 Стандартизация и метрология

Направленность (профиль/специализация) программы
Стандартизация, менеджмент и контроль качества

Уровень высшего образования - бакалавриат

Форма обучения
очная

Институт/ факультет	Институт естествознания и стандартизации
Кафедра	Прикладной математики и информатики
Курс	1, 2
Семестр	2, 3


Магнитогорск
2026 год

Рабочая программа составлена на основе ФГОС ВО - бакалавриат по направлению подготовки 27.03.01 Стандартизация и метрология (приказ Минобрнауки России от 07.08.2020 г. № 901)

Рабочая программа рассмотрена и одобрена на заседании кафедры Прикладной математики и информатики
13.01.2026, протокол № 5

Зав. кафедрой  Ю.А. Извеков

Рабочая программа одобрена методической комиссией ИВиС
02.02.2026 г. протокол № 4


Председатель  Ю.В. Сомова

Согласовано:


Зав. кафедрой Технологии, сертификации и сервиса автомобилей

 И.Ю. Мезин

Рабочая программа составлена:

доцент кафедры кафедры ПМИИ, канд. физ.-мат. наук  В.В. Шеметова

Рецензент:

зав. кафедрой Физики, канд. физ.-мат. наук  Д.М. Долгушин

Лист актуализации рабочей программы

Рабочая программа пересмотрена, обсуждена и одобрена для реализации в 2027 - 2028 учебном году на заседании кафедры Прикладной математики и информатики

Протокол от _____ 20__ г. № ____
Зав. кафедрой _____ Ю.А. Извеков

Рабочая программа пересмотрена, обсуждена и одобрена для реализации в 2028 - 2029 учебном году на заседании кафедры Прикладной математики и информатики

Протокол от _____ 20__ г. № ____
Зав. кафедрой _____ Ю.А. Извеков

Рабочая программа пересмотрена, обсуждена и одобрена для реализации в 2029 - 2030 учебном году на заседании кафедры Прикладной математики и информатики

Протокол от _____ 20__ г. № ____
Зав. кафедрой _____ Ю.А. Извеков

Рабочая программа пересмотрена, обсуждена и одобрена для реализации в 2030 - 2031 учебном году на заседании кафедры Прикладной математики и информатики

Протокол от _____ 20__ г. № ____
Зав. кафедрой _____ Ю.А. Извеков

1 Цели освоения дисциплины (модуля)

Целями освоения дисциплины «Математика» являются: формирование у обучающихся общепрофессиональных компетенций, включающей ознакомление бакалавров с основными математическими понятиями, воспитание высокой математической культуры, базирующейся на использовании основных законов математики в профессиональной деятельности, привитие навыков современных видов математического мышления, использование математических методов и основ математического моделирования в практической деятельности, выработка у бакалавров умения проводить математический анализ прикладных задач и овладение основными аналитико-геометрическими методами исследования таких задач.

2 Место дисциплины (модуля) в структуре образовательной программы

Дисциплина Математика входит в обязательную часть учебного плана образовательной программы.

Для изучения дисциплины необходимы знания (умения, владения), сформированные в результате изучения дисциплин/ практик:

Математические основы инженерии

Знания (умения, владения), полученные при изучении данной дисциплины будут необходимы для изучения дисциплин/практик:

Метрология

Физические основы измерений и эталоны

Теоретические основы электротехники

Статистические методы контроля и управления качеством

3 Компетенции обучающегося, формируемые в результате освоения дисциплины (модуля) и планируемые результаты обучения

В результате освоения дисциплины (модуля) «Математика» обучающийся должен обладать следующими компетенциями:

Код индикатора	Индикатор достижения компетенции
ОПК-1	Способен анализировать задачи профессиональной деятельности на основе положений, законов и методов в области естественных наук и математики
ОПК-1.1	Использует положения, законы и методы в области естественных наук и математики при решении практических задач
ОПК-1.2	Решает стандартные профессиональные задачи с применением методов математического анализа
ОПК-1.3	Применяет естественнонаучные знания и методы математического анализа в профессиональной деятельности
ОПК-2	Способен формулировать задачи профессиональной деятельности на основе знаний профильных разделов математических и естественнонаучных дисциплин
ОПК-2.1	Выполняет постановку задач в формализованном виде на основе знаний профильных разделов математических и естественнонаучных дисциплин в области профессиональной деятельности
ОПК-2.2	Выбирает математический аппарат для решения формализованных задач в области профессиональной деятельности

4. Структура, объём и содержание дисциплины (модуля)

Общая трудоемкость дисциплины составляет 9 зачетных единиц 324 акад. часов, в том числе:

- контактная работа – 150 акад. часов;
- аудиторная – 144 акад. часов;
- внеаудиторная – 6 акад. часов;
- самостоятельная работа – 156,3 акад. часов;
- в форме практической подготовки – 0 акад. час;
- подготовка к экзамену – 17,7 акад. час

Форма аттестации - зачет, экзамен

Раздел/ тема дисциплины	Семестр	Аудиторная контактная работа (в акад. часах)			Самостоятельная работа студента	Вид самостоятельной работы	Форма текущего контроля успеваемости и промежуточной аттестации	Код компетенции
		Лек.	лаб. зан.	практ. зан.				
1. Линейная и векторная алгебра								
1.1 Векторы. Линейные операции над векторами. Прямоугольная декартова система координат	2	2		2	3	- подготовка к практическому занятию, - подготовка к АКР № 2 «Векторы»	- опрос	ОПК-1.1, ОПК-1.2, ОПК-1.3, ОПК-2.1, ОПК-2.2
1.2 Нелинейные операции над векторами: скалярное произведение, векторное произведение, смешанное произведение		2		2	2	- подготовка к практическому занятию, - составление учебной карты «Векторы: линейные и нелинейные операции»	- АКР №2 «Векторы», - проверка учебной карты	ОПК-1.1, ОПК-1.2, ОПК-1.3, ОПК-2.1, ОПК-2.2
Итого по разделу		4		4	5			
2. Аналитическая геометрия								
2.1 Аналитическая геометрия на плоскости: Уравнение линии на плоскости. Уравнение прямой на плоскости. Основные задачи, связанные с уравнением прямой на плоскости	2	2		2	2	- подготовка к практическому занятию, - выполнение ИДЗ №2 «Аналитическая геометрия»	- консультации по решению ИДЗ №2	ОПК-1.1, ОПК-1.2, ОПК-1.3, ОПК-2.1, ОПК-2.2
2.2 Аналитическая геометрия на плоскости: Кривые второго порядка (окружность, эллипс, гипербола, парабола)		2		2	4	- подготовка к практическому занятию, - выполнение ИДЗ №2 «Аналитическая геометрия»	- консультации по решению ИДЗ №2	ОПК-1.1, ОПК-1.2, ОПК-1.3, ОПК-2.1, ОПК-2.2
2.3 Аналитическая		2		2	2	- подготовка к	- проверка ИДЗ	ОПК-1.1,

геометрия в пространстве: Уравнение плоскости, основные задачи. Уравнение прямой в пространстве, основные задачи						практическому занятию, - выполнение ИДЗ №2 «Аналитическая геометрия»	№2 «Аналитическая геометрия»	ОПК-1.2, ОПК-1.3, ОПК-2.1, ОПК-2.2
2.4 Аналитическая геометрия в пространстве: Поверхности второго порядка. Метод сечений	2	2		2	4	- подготовка к практическому занятию, - подготовка презентации на тему «Поверхности второго порядка»	- защита презентаций	ОПК-1.1, ОПК-1.2, ОПК-1.3, ОПК-2.1, ОПК-2.2
Итого по разделу		8		8	12			
3. Введение в математический анализ								
3.1 Понятие множества. Действительные числа и их свойства. Понятие окрестности точки. Понятие функции. Свойства функций		2		2	4	- подготовка к практическому занятию, - выполнение ИДЗ №3 «Предел. Непрерывность», - составление учебной карты по теме (краткая систематизация изученного)	- консультации по решению ИДЗ №3	ОПК-1.1, ОПК-1.2, ОПК-1.3, ОПК-2.1, ОПК-2.2
3.2 Числовые последовательности. Предел числовой последовательности. Сходимость последовательности. Ограниченные и монотонные последовательности. Простейшие свойства пределов последовательностей. Число e. Предел функции на языке последовательностей. Бесконечно большие, бесконечно малые. Свойства пределов функций. Основные виды неопределенностей	2	2		2	4	- подготовка к практическому занятию, - выполнение ИДЗ №3 «Предел. Непрерывность», - составление учебной карты по теме	- консультации по решению ИДЗ №3	ОПК-1.1, ОПК-1.2, ОПК-1.3, ОПК-2.1, ОПК-2.2
3.3 Непрерывность функции в точке и на множестве. Арифметические операции над непрерывными функциями. Непрерывность элементарных функций. Свойства функций, непрерывных на отрезке.		2		2	4	- подготовка к АКР №3 «Предел», - выполнение ИДЗ №3 «Предел. Непрерывность», - подготовка к защите теоретической	- АКР №3 «Предел», - защита ИДЗ № 3	ОПК-1.1, ОПК-1.2, ОПК-1.3, ОПК-2.1, ОПК-2.2

Точки разрыва и их классификация						части ИДЗ №3			
Итого по разделу		6		6	12				
4. Дифференциальное исчисление функции одной переменной									
4.1 Задачи, приводящие к понятию производной. Определение производной функции в точке. Дифференциал, его геометрический смысл. Геометрический и механический смысл производной. Правила дифференцирования и таблица производных	2					Самостоятельная работа с литературой – конспект раздела «Задачи, приводящие к понятию производной», - подготовка к практическому занятию, - выполнение ИДЗ №4 «Производная. Вычисление», - составление учебной карты «Производная»	- проверка конспекта, - консультации по решению ИДЗ №4	ОПК-1.1, ОПК-1.2, ОПК-1.3, ОПК-2.1, ОПК-2.2	
		4.2 Дифференцирование неявно заданных, параметрически заданных функций. Логарифмическое дифференцирование	1		1	2	- подготовка к практическому занятию, - выполнение ИДЗ №4 «Производная. Вычисление», - составление учебной карты «Производная», - подготовка к защите ИДЗ №4	консультации по решению ИДЗ №4, Проверка ИДЗ №4 «Производная. Вычисление», учебная карта (проект) по теме – защита	ОПК-1.1, ОПК-1.2, ОПК-1.3, ОПК-2.1, ОПК-2.2
		4.3 Производные и дифференциалы высших порядков	1		1	2	- подготовка к практическому занятию, - выполнение ИДЗ №4 «Производная высших порядков. Приложения производной», - составление учебной карты «Производная», - подготовка к контрольной работе	- проверка РГР № 3 «Производная высших порядков. Приложения производной», - учебная карта (проект) по теме – защита	ОПК-1.1, ОПК-1.2, ОПК-1.3, ОПК-2.1, ОПК-2.2
		4.4 Основные теоремы дифференциального исчисления: теоремы Ферма, Ролля, Лагранжа, Коши. Формула Тейлора. Формула Тейлора. Применение производных при вычислении пределов. Правило	1		1	4	- подготовка к практическому занятию, - выполнение ИДЗ №4, - составление учебной карты «Производная», - подготовка к	- АКР №4 «Производная»	ОПК-1.1, ОПК-1.2, ОПК-1.3, ОПК-2.1, ОПК-2.2

Лопиталья						АКР №4 «Производная»		
4.5 Исследование функций с помощью дифференциального исчисления. Признаки знакопостоянства, возрастания и убывания, выпуклости и вогнутости функции на промежутке. Экстремумы функций. Нахождение наименьшего и наибольшего значений функции на замкнутом промежутке	2	1		1	4,8	- подготовка к практическому занятию, - выполнение ИДЗ №4 «Применение производной для исследования функций и построения графиков», - составление учебной карты «Производная при построении графика функции»	Проверка ИДЗ №4 «Применение производной для исследования функций и построения графиков», Проверка учебной карты	ОПК-1.1, ОПК-1.2, ОПК-1.3, ОПК-2.1, ОПК-2.2
Итого по разделу		6		6	16,8			
5. Интегральное исчисление функций одной переменной								
5.1 Первообразная функция. Неопределенный интеграл и его основные свойства. Таблица неопределенных интегралов от основных элементарных функций		2		2	4	- подготовка к практическому занятию, - выполнение ИДЗ №5 «Неопределенный интеграл», - составление учебной карты «Методы интегрирования»	- консультации по решению ИДЗ №5, - проверка ИДЗ №5	ОПК-1.1, ОПК-1.2, ОПК-1.3, ОПК-2.1, ОПК-2.2
5.2 Основные методы интегрирования: Методы непосредственного интегрирования. Интегрирование заменой переменной и по частям	2			2	4	- подготовка к практическому занятию, - выполнение ИДЗ №5 «Неопределенный интеграл», - составление учебной карты «Методы интегрирования»	- консультации по решению ИДЗ №5, - проверка ИДЗ №5	ОПК-1.1, ОПК-1.2, ОПК-1.3, ОПК-2.1, ОПК-2.2
5.3 Основные методы интегрирования: Интегрирование рациональных дробей		2		2	2	- подготовка к практическому занятию, - выполнение ИДЗ №5 «Неопределенный интеграл», - составление учебной карты «Методы интегрирования» - подготовка к АКР №5 «Неопределенный интеграл»	- консультации по решению ИДЗ №5, - проверка ИДЗ №5 - АКР №5 «Неопределенный интеграл»	ОПК-1.1, ОПК-1.2, ОПК-1.3, ОПК-2.1, ОПК-2.2

						ый интеграл»		
5.4 Основные методы интегрирования: Интегрирование тригонометрических выражений. Интегрирование иррациональных выражений		2		2	4	- подготовка к практическому занятию, - выполнение ИДЗ №5 «Неопределенный интеграл», - составление учебной карты «Методы интегрирования»	- консультации по решению ИДЗ №5, - проверка ИДЗ №5, - проверка учебной карты	ОПК-1.1, ОПК-1.2, ОПК-1.3, ОПК-2.1, ОПК-2.2
5.5 Определенный интеграл. Задача вычисления площади криволинейной трапеции и другие задачи, приводящие к понятию определенного интеграла. Формула Ньютона-Лейбница. Свойства определенного интеграла. Существование первообразной непрерывной функции. Замена переменной и интегрирование по частям	2	2		2	4	- подготовка к практическому занятию, - выполнение ИДЗ №5 «Определенный интеграл и его приложения», - составление учебной карты «Приложения определенного интеграла»	- консультации по решению ИДЗ №5, - проверка ИДЗ №5	ОПК-1.1, ОПК-1.2, ОПК-1.3, ОПК-2.1, ОПК-2.2
5.6 Несобственные интегралы: Признаки сходимости		2		2	6,3	- подготовка к практическому занятию, - выполнение ИДЗ №5 «Определенный интеграл и его приложения», - самостоятельное изучение литературы: конспект «Свойства несобственных интегралов. Признаки сходимости»	- консультации по решению ИДЗ №5, - проверка ИДЗ №5, - проверка конспекта «Свойства несобственных интегралов. Признаки сходимости»	ОПК-1.1, ОПК-1.2, ОПК-1.3, ОПК-2.1, ОПК-2.2
Итого по разделу		12		12	24,3			
Итого за семестр		36		36	70,1		зачёт	
6. Дифференциальное исчисление функций нескольких переменных (ФНП)								
6.1 Понятие ФНП. Предел и непрерывность ФНП. Основные свойства функций, непрерывных в замкнутой области	3	2		2	4	- самостоятельное изучение литературы по теме: написание конспекта «Основные свойства функций, непрерывных в	- проверка конспекта	ОПК-1.1, ОПК-1.2, ОПК-1.3, ОПК-2.1, ОПК-2.2

						замкнутой области»		
6.2 Частные производные и производная по направлению. Дифференцируемые функции. Касательная плоскость и нормаль к поверхности. Геометрический смысл дифференциала. Признак дифференцируемости	3	2		2	4	- подготовка к практическому занятию, - выполнение ИДЗ №6 «Частные производные», - составление учебной карты «ФНП»	- консультирование по решению ИДЗ №6, - проверка выполнения ИДЗ №6	ОПК-1.1, ОПК-1.2, ОПК-1.3, ОПК-2.1, ОПК-2.2
6.3 Производная сложной функции. Частные производные и дифференциалы высших порядков. Дифференцирование неявно заданных функций		2		2	4	- подготовка к практическому занятию, - выполнение ИДЗ №6 «Частные производные», - составление учебной карты «ФНП»	- консультирование по решению ИДЗ №6, - проверка выполнения ИДЗ №6, - проверка учебной карты «ФНП»	ОПК-1.1, ОПК-1.2, ОПК-1.3, ОПК-2.1, ОПК-2.2
6.4 Экстремумы ФНП		2		2	4	- подготовка к практическому занятию, - выполнение ИДЗ №6 «Экстремум ФНП», - составление учебной карты «ФНП», - подготовка к АКР №6 «ФНП: дифференцирование»	- консультирование по решению ИДЗ №6, - проверка выполнения ИДЗ №6, - проверка учебной карты «ФНП», - АКР №6 «ФНП: дифференцирование»	ОПК-1.1, ОПК-1.2, ОПК-1.3, ОПК-2.1, ОПК-2.2
Итого по разделу		8		8	16			
7. Обыкновенные дифференциальные уравнения								
7.1 Обыкновенные дифференциальные уравнения первого порядка. Основные определения. Частное и общее решение. Интегральные кривые. Геометрический смысл дифференциального уравнения первого порядка. Методы решения дифференциальных уравнений первого порядка	3	2		2	4	- подготовка к практическому занятию, - выполнение ИДЗ №9 «Обыкновенные ДУ первого порядка», - составление учебной карты «ДУ первого порядка: типы и методы решения»	- консультирование по решению ИДЗ №9, - проверка выполнения ИДЗ №9	ОПК-1.1, ОПК-1.2, ОПК-1.3, ОПК-2.1, ОПК-2.2
7.2 ДУ высших порядков, сводящиеся к первому		2		2	4	- подготовка к практическому занятию, - выполнение ИДЗ №9 «Обыкновенные ДУ первого порядка»,	- консультирование по решению ИДЗ №9, - проверка выполнения ИДЗ №9, - защита ИДЗ №9,	ОПК-1.1, ОПК-1.2, ОПК-1.3, ОПК-2.1, ОПК-2.2

						- составление учебной карты «ДУ первого порядка: типы и методы решения»	- проверка учебной карты «ДУ первого порядка: типы и методы решения»	
7.3 Линейные дифференциальные уравнения n-го порядка. Линейное однородное уравнение. Фундаментальная система решений. Определитель Вронского. Неоднородное линейное уравнение (ЛНДУ), вид общего решения. Метод вариации произвольных постоянных. Комплексные числа. Линейное уравнение с постоянными коэффициентами. Характеристическое уравнение. Общее решение		2		2	4	- подготовка к практическому занятию, - выполнение ИДЗ №9 «ЛНДУ высших порядков с постоянными коэффициентами . Системы ДУ», - составление учебной карты «ЛНДУ высших порядков с постоянными коэффициентами : методы решения»	- консультирование по решению ИДЗ №9, - проверка выполнения ИДЗ №9, - проверка учебной карты «ЛНДУ высших порядков с постоянными коэффициентами: методы решения», - АКР №7 «ОДУ»	ОПК-1.1, ОПК-1.2, ОПК-1.3, ОПК-2.1, ОПК-2.2
7.4 Методы решения систем дифференциальных уравнений (2-го порядка)	3	2		2	4	- подготовка к практическому занятию, - выполнение ИДЗ №9 «ЛНДУ высших порядков с постоянными коэффициентами . Системы ДУ» - составление учебной карты «ЛНДУ высших порядков с постоянными коэффициентами : методы решения. Структура общего решения»	- консультирование по решению ИДЗ №9, - проверка выполнения ИДЗ №9, - защита ИДЗ №9	ОПК-1.1, ОПК-1.2, ОПК-1.3, ОПК-2.1, ОПК-2.2
Итого по разделу		8		8	16			
8. Элементы теории вероятностей								
8.1 Элементы комбинаторики		2		2	6,1	- подготовка к практическому занятию, - выполнение домашнего задания	- консультирование по решению ДЗ	ОПК-1.1, ОПК-1.2, ОПК-1.3, ОПК-2.1, ОПК-2.2
8.2 Случайные события. Основные понятия. Алгебра событий. Классическое, геометрическое и статистическое	3	2		2	4	- подготовка к практическому занятию, - выполнение ИДЗ №10 «Теория	- консультирование по решению ИДЗ №10, - проверка выполнения ИДЗ	ОПК-1.1, ОПК-1.2, ОПК-1.3, ОПК-2.1, ОПК-2.2

определения вероятности. Аксиоматика теории вероятностей						вероятностей»	№10	
8.3 Теоремы сложения и умножения. Условная вероятность. Формула полной вероятности и формула Байеса. Схема Бернулли, приближения Лапласа и Пуассона	3	2		2	6	- подготовка к практическому занятию, - выполнение ИДЗ №10 «Теория вероятностей», - подготовка к АКР №8 «Случайные события»	- консультирование по решению ИДЗ №10, - проверка выполнения ИДЗ №10, - проверка АКР №8	ОПК-1.1, ОПК-1.2, ОПК-1.3, ОПК-2.1, ОПК-2.2
8.4 Случайные величины. Дискретные и непрерывные случайные величины. Ряд распределения, функция распределения и плотность. Математическое ожидание и дисперсия, начальные и центральные моменты		2		2	4	- подготовка к практическому занятию, - выполнение ИДЗ №10 «Теория вероятностей»	- консультирование по решению ИДЗ №10, - проверка выполнения ИДЗ №10	ОПК-1.1, ОПК-1.2, ОПК-1.3, ОПК-2.1, ОПК-2.2
8.5 Известные распределения и их числовые характеристики. Нормальное распределение		2		2	4	- подготовка к практическому занятию, - выполнение ИДЗ №10 «Теория вероятностей»	- консультирование по решению ИДЗ №10, - проверка выполнения ИДЗ №10	ОПК-1.1, ОПК-1.2, ОПК-1.3, ОПК-2.1, ОПК-2.2
8.6 Законы больших чисел. Неравенство и теорема Чебышёва. Центральная предельная теорема		1		2	4	- подготовка к практическому занятию, - выполнение ИДЗ №10 «Теория вероятностей»	- консультирование по решению ИДЗ №10, - проверка выполнения ИДЗ №10	ОПК-1.1, ОПК-1.2, ОПК-1.3, ОПК-2.1, ОПК-2.2
8.7 Многомерные случайные величины. Функции распределения, свойства. Числовые характеристики. Элементы теории корреляции		1		2	6	- подготовка к практическому занятию, - выполнение ИДЗ №10 «Теория вероятностей»	- консультирование по решению ИДЗ №10, - проверка выполнения ИДЗ №10, Защита ИДЗ №10	ОПК-1.1, ОПК-1.2, ОПК-1.3, ОПК-2.1, ОПК-2.2
Итого по разделу		12		14	34,1			
9. Элементы математической статистики								
9.1 Основные понятия, генеральная совокупность и выборка. Статистические оценки параметров распределения. Точечные и интервальные оценки	3	2		2	6	- подготовка к практическому занятию, - выполнение ИДЗ №11 «Первичная обработка результатов эксперимента»	- консультации по решению ИДЗ №11, - проверка ИДЗ №11 «Первичная обработка результатов эксперимента»	ОПК-1.1, ОПК-1.2, ОПК-1.3, ОПК-2.1, ОПК-2.2
9.2 Доверительные интервалы для параметров нормального		2		2	4	- подготовка к практическому занятию,	- консультации по решению ИДЗ №12,	ОПК-1.1, ОПК-1.2, ОПК-1.3,

распределения. Понятие о критериях проверки статистических гипотез						- выполнение ИДЗ №12 «Числовые характеристики генеральных параметров»	- проверка ИДЗ №12 «Числовые характеристики генеральных параметров»	ОПК-2.1, ОПК-2.2
9.3 Критическая область, уровень значимости, мощность критерия. Критерий согласия Пирсона для гипотезы о нормальном распределении	3	2		1	6	- подготовка к практическому занятию, - выполнение ИДЗ №13 «Проверка статистических гипотез»	- консультации по решению ИДЗ №9, - выполнение ИДЗ №13 «Проверка статистических гипотез»	ОПК-1.1, ОПК-1.2, ОПК-1.3, ОПК-2.1, ОПК-2.2
9.4 Функциональная зависимость и регрессия. Кривые регрессии. Выборочный коэффициент корреляции. Определение параметров линейной регрессии методом наименьших квадратов		2		1	4,1	- подготовка к практическому занятию, - выполнение ИДЗ №14 «Выяснение корреляционной зависимости измеримых признаков генеральной совокупности»	- консультации по решению ИДЗ №10, - выполнение ИДЗ №14 «Выяснение корреляционной зависимости измеримых признаков»	ОПК-1.1, ОПК-1.2, ОПК-1.3, ОПК-2.1, ОПК-2.2
Итого по разделу		8		6	20,1			
Итого за семестр		36		36	86,2		экзамен	
Итого по дисциплине		72		72	156,3		зачет, экзамен	

5 Образовательные технологии

Реализация компетентного подхода предусматривает использование в учебном процессе активных и интерактивных форм проведения занятий в сочетании с внеаудиторной работой с целью формирования и развития профессиональных навыков обучающихся. Согласно п. 34 Порядка организации и осуществления деятельности по образовательным программам бакалавриата высшего образования (утв. приказом МОиН РФ от 05.04.2017 г. № 301), при проведении учебных занятий обеспечивается развитие у обучающихся навыков командной работы, межличностной коммуникации, принятия решений, лидерских качеств, в том числе с учетом региональных особенностей профессиональной деятельности выпускников и потребностей работодателей.

Выбирая ту или иную технологию работы с обучающимися, необходимо иметь в виду, что наибольшего эффекта от ее применения можно достичь, если учитывать цели образования, на реализацию которых должна быть направлена избираемая технология, со-держание, которое предстоит передать обучающимся с ее помощью, а также условия, в которых она будет использоваться.

В нашей работе мы используем следующее.

1. Традиционные образовательные технологии. Организация образовательного процесса, предполагает прямую трансляцию знаний от преподавателя к студенту (преимущественно на основе объяснительно-иллюстративных методов обучения). Учебная деятельность студента носит в таких условиях, как правило, репродуктивный характер.

Формы учебных занятий:

- информационная лекция – последовательное изложение материала в дисциплинарной логике, осуществляемое преимущественно вербальными средствами.
- практическое занятие, посвященное освоению конкретных умений и навыков по предложенному алгоритму.

2. Технологии проектного обучения. Образовательный процесс построен в соответствии с алгоритмом поэтапного решения проблемной задачи или выполнения учебного задания. Проект предполагает совместную учебно-познавательную деятельность группы студентов, направленную на выработку концепции, установление целей и задач, формулировку ожидаемых результатов, определение принципов и методик решения поставленных задач, планирование хода работы, поиск доступных и оптимальных ресурсов, поэтапную реализацию плана работы, презентацию результатов работы, их осмысление и рефлексию. Применяется в основном для перехода компетенции на уровень владения.

Основные типы применяемых нами в образовательной деятельности проектов:

Исследовательский проект – структура приближена к формату научного исследования (доказательство актуальности темы, определение научной проблемы, предмета и объекта исследования, целей и задач, методов, источников, выдвижение гипотезы, обобщение результатов, выводы, обозначение новых проблем). Результатом является учебная карта по модулю нашей образовательной программы.

Творческий проект, предполагающий в отличие от предыдущего, конечный продукт в следующих вариантах – газета к исторически значимому «математическому» событию (праздник числа «Пи» и т.п.); «математическая» открытка (своего рода учебная карта, только неформально, красочно оформленная; видеоролик «Я научу вас решать ...» и т.п.

Информационный проект – учебно-познавательная деятельность с ярко выраженной эвристической направленностью (поиск, отбор и систематизация информации о каком-то объекте, ознакомление участников проекта с этой информацией, ее анализ и обобщение и, наконец, презентация по практическому приложению).

4. Информационно-коммуникационные образовательные технологии. Организация образовательного процесса с применением специализированных программных сред и технических средств работы с информацией (информационную среду университета МООДУС MOODLE).

6 Учебно-методическое обеспечение самостоятельной работы обучающихся

Представлено в приложении 1.

7 Оценочные средства для проведения промежуточной аттестации

Представлены в приложении 2.

8 Учебно-методическое и информационное обеспечение дисциплины

а) Основная литература:

1. Шипачев, В. С. Высшая математика: учебник / В. С. Шипачев. — Москва : ИНФРА-М, 2024. — 479 с. — (Высшее образование). — DOI 10.12737/5394. - ISBN 978-5-16-010072-2. - Текст : электронный. - URL: <https://znanium.ru/catalog/product/2085943> (дата обращения: 05.03.2026). – Режим доступа: по подписке.

2. Математика : учебное пособие / Ю. М. Данилов, Л. Н. Журбенко, Г. А. Никонова [и др.] ; под ред. Л. Н. Журбенко, Г. А. Никоновой. — Москва : ИНФРА-М, 2022. — 496 с. — (Высшее образование: Бакалавриат). - ISBN 978-5-16-010118-7. -Текст : электронный. - URL: <https://znanium.ru/catalog/product/1818645> (дата обращения: 05.03.2026). – Режим доступа: по подписке.

б) Дополнительная литература:

1. Математика в примерах и задачах: учебное пособие / О.М. Дегтярева, Л.Н. Журбенко, Г.А. Никонова [и др.]. — Москва: ИНФРА-М, 2021. — 372 с. — (Высшее образование: Бакалавриат). - ISBN 978-5-16-011256-5. - Текст: электронный. - URL: <https://znanium.ru/catalog/product/1588756> (дата обращения: 05.03.2026). – Режим доступа: по подписке.

2. Фихтенгольц, Г. М. Основы математического анализа. Часть 1: учебник для вузов / Г. М. Фихтенгольц. — 18-е изд., стер. — Санкт-Петербург: Лань, 2026. — 448 с. — ISBN 978-5-507-55976-3. — Текст: электронный // Лань: электронно-библиотечная система. — URL: <https://e.lanbook.com/book/512293> (дата обращения: 05.03.2026). — Режим доступа: для авториз. пользователей.

3. Фихтенгольц, Г. М. Основы математического анализа. Часть 2: учебник для вузов / Г. М. Фихтенгольц. — 16-е изд., стер. — Санкт-Петербург: Лань, 2025. — 464 с. — ISBN 978-5-507-50836-5. — Текст: электронный // Лань: электронно-библиотечная система. — URL: <https://e.lanbook.com/book/473315> (дата обращения: 05.03.2026). — Режим доступа: для авториз. пользователей.

4. Шипачев, В. С. Задачник по высшей математике: учебное пособие / В. С. Шипачев. — 10-е изд., стер. — Москва: ИНФРА-М, 2024. — 304 с. — (Высшее образование). - ISBN 978-5-16-010071-5. - Текст: электронный. - URL: <https://znanium.ru/catalog/product/2124772> (дата обращения: 05.03.2026). – Режим доступа: по подписке.

в) Методические указания:

1. Акманова З. С. Линейная алгебра: матрицы, определители, СЛАУ: учебное пособие / З. С. Акманова; МГТУ. - Магнитогорск: МГТУ, 2016. - 1 электрон. опт. диск (CD-ROM). - URL: <https://host.megaprolib.net/MP0109/Download/ToView/20314?idb=db0109> (дата обращения: 05.03.2026). - Текст: электронный.
2. Акманова З. С. Векторная алгебра: учебное пособие / З. С. Акманова; МГТУ. - Магнитогорск: МГТУ, 2016. - 1 электрон. опт. диск (CD-ROM). - URL: <https://host.megaprolib.net/MP0109/Download/ToView/20313?idb=db0109> (дата обращения: 05.03.2026). - Текст: электронный.
3. Акманова З. С. Аналитическая геометрия: учебное пособие / З. С. Акманова; МГТУ. - Магнитогорск: МГТУ, 2016. - 1 электрон. опт. диск (CD-ROM). - URL: <https://host.megaprolib.net/MP0109/Download/ToView/20312?idb=db0109> (дата обращения: 05.03.2026). - Текст: электронный.
4. Акманова З. С. Неопределенный интеграл: от теории к практике: учебное пособие / З. С. Акманова; МГТУ. - Магнитогорск: МГТУ, 2015. - 1 электрон. опт. диск (CD-ROM). - URL: <https://host.megaprolib.net/MP0109/Download/MObject/325> (дата обращения: 05.03.2026). - Текст: электронный.
5. Анисимов А. Л. Дифференциальное исчисление функции одной переменной: учебное пособие / А. Л. Анисимов, Л. А. Грачева, Е. М. Гугина; А. Л. Анисимов, Л. А. Грачева, Е. М. Гугина; МГТУ. - Магнитогорск: МГТУ, 2018. - 1 электрон. опт. диск (CD-ROM). - URL: <https://host.megaprolib.net/MP0109/Download/MObject/2242> (дата обращения: 05.03.2026). - Текст: электронный.
6. Анисимов А. Л. Матрицы. Определители. Системы линейных алгебраических уравнений: учебное пособие / А. Л. Анисимов, Т. А. Бондаренко, Г. А. Каменева; МГТУ. - Магнитогорск: МГТУ, 2017. - 1 электрон. опт. диск (CD-ROM). - URL: <https://host.megaprolib.net/MP0109/Download/MObject/1898> (дата обращения: 05.03.2026). - ISBN 978-5-9967-1000-3. - Текст: электронный.
7. Вахрушева И. А. Сборник прикладных задач по высшей математике. Часть 2: практикум / И. А. Вахрушева; Магнитогорский гос. технический ун-т им. Г. И. Носова. - Магнитогорск: МГТУ им. Г. И. Носова, 2022. - 1 CD-ROM. - Загл. с титул. экрана. - URL: <https://host.megaprolib.net/MP0109/Download/MObject/3188> (дата обращения: 05.03.2026). - ISBN 978-5-9967-2369-0. - Текст: электронный.

г) Программное обеспечение и Интернет-ресурсы:**Программное обеспечение**

Наименование ПО	№ договора	Срок действия лицензии
7Zip	свободно распространяемое ПО	бессрочно
Браузер Mozilla Firefox	свободно распространяемое ПО	бессрочно
Браузер Yandex	свободно распространяемое ПО	бессрочно
FAR Manager	свободно распространяемое ПО	бессрочно

Профессиональные базы данных и информационные справочные системы

Название курса	Ссылка
----------------	--------

Национальная информационно-аналитическая система – Российский индекс научного цитирования (РИНЦ)	URL: https://elibrary.ru/
Электронная база периодических изданий ООО «ИВИС»	https://eivis.ru/

9 Материально-техническое обеспечение дисциплины (модуля)

Материально-техническое обеспечение дисциплины включает:

Учебные аудитории для проведения занятий лекционного типа Доска, мультимедийные средства хранения, передачи и представления информации

Учебные аудитории для проведения практических занятий, групповых и индивидуальных консультаций, текущего контроля и промежуточной аттестации Доска, мультимедийный проектор, экран

Комплекс методических разработок (раздаточного материала и методических указаний) и/или комплекс тестовых заданий для подготовки и проведения промежуточных и рубежных контролей

Помещения для самостоятельной работы учащихся Персональные компьютеры с пакетом MSOffice, выходом в Интернет и с доступом в электронную информационно-образовательную среду университета

Помещение для хранения и профилактического обслуживания учебного оборудования Шкафы для хранения учебно-методической документации, учебного оборудования и учебно-наглядных пособий

Приложение 1

Учебно-методическое обеспечение самостоятельной работы обучающихся

По дисциплине «Математика» предусмотрена аудиторная и внеаудиторная самостоятельная работа обучающихся.

Аудиторная самостоятельная работа студентов предполагает решение контрольных задач на практических занятиях.

Примерные аудиторные контрольные работы (АКР):

АКР №2 «Векторы»

1. Постройте на плоскости векторы $\vec{a} = (4; -1)$, $\vec{b} = (-2; 5)$, $\vec{c} = (1; 2)$. Найдите их линейную комбинацию $2\vec{a} + \vec{b} + 3\vec{c}$ а) геометрически, б) аналитически.
2. $\vec{a} = (2; 1; -3)$, $\vec{b} = (-4; 0; 2)$, $\vec{c} = (1; 1; -2)$. Найдите:
 - а) длину вектора \vec{a} , его направляющие косинусы, орт вектора \vec{a} ;
 - б) $\vec{a} \cdot \vec{b}$, $\vec{a} \cdot \vec{c}$, $\vec{b} \cdot \vec{c}$, $(\vec{a} + 2\vec{c}) \cdot (3\vec{a} - 5\vec{b})$;
 - в) $\vec{a} \times \vec{b}$, $\vec{a} \times \vec{c}$, $\vec{b} \times \vec{c}$, $(\vec{a} + 2\vec{c}) \times (3\vec{a} - 5\vec{b})$;
 - г) $\vec{a} \vec{b} \vec{c}$, $(\vec{a} + 2\vec{c})(3\vec{a} - 5\vec{b})(\vec{c} - 2\vec{b})$.
3. $\vec{a} = (1; 4; -3)$, $\vec{b} = (3; -2; 5)$, $\vec{c} = (3; -4; 2)$. Найдите площадь параллелограмма, построенного на векторах $\vec{a} + 2\vec{b}$ и $\vec{c} - 3\vec{b}$, и длины его сторон.
4. Проверьте, являются ли векторы $\vec{a} = (1; 1; 3)$, $\vec{b} = (3; 0; -2)$, $\vec{c} = (-1; 1; 3)$ компланарными.
5. Найдите $(3\vec{a} + \vec{b})(\vec{c} - 2\vec{a})(\vec{b} - 5\vec{c})$, если $\vec{a} \vec{b} \vec{c} = 5$.

АКР №3 «Пределы»

Вычислить пределы:

1. $\lim_{x \rightarrow -2} \frac{x^3 + 3x^2 + 2x}{x^2 - x - 6}$
2. $\lim_{n \rightarrow \infty} \frac{(x-7)(x-3)(x-4)}{5x^4 - x^2 + 11}$
3. $\lim_{x \rightarrow \infty} \left(\frac{x^3}{2x^2 - 1} - \frac{x^2}{2x + 1} \right)$
4. $\lim_{x \rightarrow -2} \frac{tg \pi x}{(x + 2)}$
5. $\lim_{x \rightarrow 0} (1 - 4x)^{\frac{1}{3x} + 7}$
6. $\lim_{x \rightarrow 0} x ctg 5x$
7. $\lim_{x \rightarrow 1-0} 3^{\frac{1}{x-1}}$

8. Исследовать на непрерывность

$$f(x) = \begin{cases} x - 3 & \text{если } x < 0 \\ 5^x & \text{если } x \geq 0 \end{cases}$$

АКР №4 «Производная»

1. Найдите первую производную от функций:

$$\text{а) } \begin{cases} x = \sqrt{1-25t^2}, \\ y = \arccos 5t + \pi, \end{cases} \quad \text{б) } y = x \cdot \cos 3x, \quad \text{в) } y = \frac{x^2 - 3x + 2}{x^2 + 2x + 1} - 5 \cdot \log_2 x + 3$$

$$\text{г) } y = 5^{x^3 + \sqrt{x}} - 2 \operatorname{arctg}(4x^2 + 3x).$$

2. Составьте уравнения касательной к кривой $xy = 4$ в точке $x_0 = 1$.

3. Вычислите приближенно $y = \sqrt{x^2 + 8}$ при $x = 1,09$.

4. Вычислите предел по правилу Лопиталя $\lim_{x \rightarrow 0} \frac{\cos 4x - 1}{(e^{4x} - 1)^2}$.

АКР №5 «Неопределенный интеграл»

. Найти неопределённые интегралы:

$$\text{а) } \int \frac{x^2 + 5x - \sqrt{x} + 2}{x^2} dx, \quad \text{б) } \int \sin(3x + 1) dx, \quad \text{в) } \int \sin x e^{\cos x} dx, \quad \text{г) } \int \frac{5x - 2}{x^2 + 4x + 5} dx,$$

$$\text{д) } \int \frac{3x - 4}{\sqrt{x^2 - 6x + 13}} dx, \quad \text{е) } \int x \sin(2x) dx, \quad \text{ж) } \int x \arcsin x dx, \quad \text{з) } \int \frac{x - 1}{x^3 + 1} dx, \quad \text{и) } \int \frac{x - 3}{(x^2 - 4)^2} dx.$$

АКР №6 «ФНП: дифференцирование»

1. Найти и построить область определения функции $z = \frac{\ln(x^2 y)}{\sqrt{y - x}}$.

2. Найти частные производные функции $z = x \cdot \operatorname{arctg} \frac{y}{1 + x^2}$.

3. Найти производную сложной функции $z = x^2 y - y^2 x$, где $x = u \cos v$; $y = u \sin v$.

4. Найти производные $\frac{\partial z}{\partial x}$ и $\frac{\partial z}{\partial y}$ неявной функции $e^z - x^2 y \sin xyz = 0$.

5. Найти экстремум функции двух переменных $z = 4(x - y) - x^2 - y^2$.

АКР №7 «Обыкновенные дифференциальные уравнения»

1. Найти общий интеграл или общее решение дифференциального уравнения первого порядка (в примере б) решить задачу Коши):

$$\text{а) } 20x dx - 3y dy = 3x^2 y dy - 5xy^2 dx,$$

$$\text{б) } \begin{cases} y' - y \cos x = \sin 2x \\ y(0) = -1 \end{cases}.$$

2. Найти общее решение дифференциального уравнения:

$$а) y''' + 2y'' - 3y' = (8x + 6)e^x,$$

$$б) y'' - 4y' + 4y = e^{2x}(\cos x + 3\sin x).$$

АКР №8 «Случайные события»

1. По мишени производится три выстрела. Рассматриваются события A, B, C – попадание при первом, втором и третьем выстрелах. Что означают события $\bar{A} + \bar{B} + \bar{C}, AB + C$?
2. В урне 12 шаров. Среди этих шаров 3 белых и 9 черных. Какова вероятность того, что наудачу вынутый шар окажется белым?
3. В радиостудии три микрофона. Для каждого из первых двух микрофонов вероятность того, что он включён в данный момент, равна 0,45, а для третьего – 0,9. Найти вероятность того, что в данный момент включены 2 микрофона.
4. В продаже имеются белые и коричневые яйца в соотношении 2:3, причем производство 60% белых и 71% коричневых яиц датируется днем, предшествующим дню продажи, а остальные яйца датируются более ранними числами. Покупатель заказывает яйца, датируемые днем, предшествующим дню продажи, независимо от их цвета. Какова вероятность того, что ему продадут решетку белых яиц?
5. Телефонная сеть учреждения обслуживает 200 абонентов. Вероятность того, что в течение минуты внутри этой сети кто-то кому-то позвонит, равна 0,7. Какова вероятность того, что в течение минуты будет 5 звонков? Какова вероятность того, что в течение минуты будет не более 5 звонков? Найти наиболее вероятное число звонков в течение минуты.

Примерные индивидуальные домашние задания (ИДЗ):

ИДЗ №2 «Аналитическая геометрия»

1. В какой точке прямая, проходящая через точки $A(3,-2)$ и $B(-1,2)$, пересекает ось Oy .
2. Найти расстояние между прямыми $4x-3y-7=0$ и $4x-3y+3=0$.
3. Написать канонические и параметрические уравнения прямой, проходящей через точки $M(2,1,-1)$ и $K(3,3,-1)$.
4. Провести прямую через точку $A(2,0,-1)$ перпендикулярно плоскости $3x+4y-z+4=0$.
5. Провести плоскость через точку $A(2,0,-1)$ параллельно плоскости $3x+4y-z+4=0$.
6. Провести плоскость через точки $A(1,0,2), B(-1,2,0), C(3,3,2)$.
7. Доказать, что прямые взаимно перпендикулярны:

$$\frac{x}{1} = \frac{y-2}{-2} = \frac{z}{3} \quad \text{и} \quad \begin{cases} 3x + y - 5z + 1 = 0, \\ 2x + 3y - 8z + 3 = 0. \end{cases}$$

8. Доказать, что прямые параллельны:

$$\frac{x+2}{3} = \frac{y-1}{-2} = \frac{z}{1} \quad \text{и} \quad \begin{cases} x + y - z = 0 \\ x - y - 5z - 8 = 0 \end{cases}.$$

9. Найти угол между прямой, проходящей через точку $A(-1,0,-5)$ и точку $B(1,2,0)$, и плоскостью $x-3y+z+5=0$.

10. Определить тип и построить линию:

$$а) x^2 - 9y^2 + 2x + 18y + 73 = 0;$$

$$б) 2x^2 + 3y^2 - 4x + 6y - 7 = 0;$$

$$в) y^2 - 4x - 2y - 3 = 0.$$

ИДЗ №3 «Предел. Непрерывность»

1. Найти пределы функций:

$$\lim_{x \rightarrow \infty} \frac{2x^3 + x^2 + 5}{3x^3 - x + 1}; \quad \lim_{x \rightarrow -1} \frac{x^3 - 3x - 2}{x^2 - x - 2}; \quad \lim_{x \rightarrow 3} \frac{\sqrt{x+1} - 2}{\sqrt{x-2} - 1}; \quad \lim_{x \rightarrow 0} \frac{1 - \cos 4x}{2x \cdot \operatorname{tg} x};$$

$$\lim_{x \rightarrow +\infty} x \cdot (\sqrt{x^2 + 1} - x); \quad \lim_{x \rightarrow \infty} \left(\frac{2x-1}{2x+1} \right)^x; \quad \lim_{x \rightarrow 0} (1-4x)^{\frac{1}{3x}+7}; \quad \lim_{x \rightarrow 0} \frac{\ln(1+2x)}{e^{3x} - 1}.$$

2. Исследовать на непрерывность, найти точки разрыва, сделать чертеж:

$$y = 4^{\frac{1}{3-x}}; \quad y = \begin{cases} x+4, & x < -1, \\ x^2 + 2, & -1 \leq x < 1, \\ 2x, & x \geq 1. \end{cases}$$

ИДЗ №4 «Производная»

Нахождение производной

1. Найти производные и дифференциалы первого порядка

$$1) y = \frac{7 \cos x}{5x + 1},$$

$$2) y = (2 + 5x)^4 - 3 \cos 7x,$$

$$3) y = \frac{7}{3} - 4x \cdot \arcsin x,$$

$$4) y = (\cos x)^{\operatorname{tg} x}.$$

2. Найти производную функции, заданной неявно

$$e^y - 5xe^x - 2xy + 11 = 0.$$

3. Найти производную функции, заданной параметрически

$$\begin{cases} x = 3 \cos t - 5, \\ y = 4t^3 + 5. \end{cases}$$

4. Найти производные первого порядка функции $y = x^2 e^{2x}$.

Производная высших порядков. Приложения производной

1. Найдите $\frac{dy}{dx}$ и $\frac{d^2y}{dx^2}$ функций: а) $\begin{cases} x = 3t - t^3, \\ y = 3t^2; \end{cases}$ б) $y = 5^{\sqrt{x}}$.

2. а) Напишите уравнение касательной к параболе $y = x^2 - 4x + 2$ в точке с абсциссой $x_0 = 0$. Постройте график и касательную.

б) Напишите уравнение касательной к кривой $x^2 + y^2 - 4x + 2y - 164 = 0$ в ее точке с координатами (7; 11). Постройте кривую и ее касательную.

3. Найдите наибольшее и наименьшее значения функции на заданном отрезке

$$f(x) = 2x^3 - 6x^2 - 18x + 7 \quad x \in [-2; 2].$$

4. Вычислите пределы, используя правило Лопиталя:

а) $\lim_{x \rightarrow 2} \frac{2x^3 - 8x^2 + 13x - 10}{x^3 - 2x^2 + 3x - 6};$

б) $\lim_{x \rightarrow +0} x \cdot \ln(e^x - 1).$

5. Зависимость пути от времени при прямолинейном движении точки задается уравнением

$s = \frac{1}{3}t^3 + 2t^2 - 3$, где s — путь в м, а t — время в с. Вычислите ее скорость и ускорение в момент времени $t = 4$ с.

Применение производной для исследования функций

1. Постройте график функции с помощью производной первого порядка $y = -x^3 - 3x^2 + 9x + 11$.

2. Найдите промежутки выпуклости, вогнутости и точки перегиба функции $y = 2x - 3\sqrt[3]{x^2}$.

3. Найдите асимптоты и постройте схематично график функции $y = \frac{x^3}{(x+1)^2}$.

4. Проведите полное исследование функции и постройте график $y = \frac{x^2 - 3x + 3}{x - 1}$.

5. Проведите полное исследование функции и постройте график $y = \frac{\ln x}{x}$.

ИДЗ №5 «Неопределенный интеграл. Определенный интеграл и его приложения»

1. Найти неопределенные интегралы

1. $\int \left(\frac{1}{3\sqrt{x}} - \frac{x\sqrt{x}}{5} + 1 \right) dx$

2. $\int \left(\frac{2}{3+x^2} - \frac{1}{2\sqrt{x^2-3}} \right) dx$

3. $\int \left(\frac{3}{\sqrt{2-7x}} - \frac{4}{\sin\left(\frac{2x}{5}-1\right)} \right) dx$

4. $\int \frac{\operatorname{ctg}^3 x - 6}{\sin^2 x} dx$

5. $\int x(3x^2+1)^4 dx$

6. $\int \frac{2x-1}{x^2+2x+10} dx$

7. $\int \sqrt{1-e^x} e^x dx$

8. $\int \frac{4x+3}{(x-2)^3} dx,$

9. $\int x e^{-3} dx,$

10. $\int \frac{dx}{x(x^2+1)},$

11. $\int \frac{dx}{\sqrt{x} + \sqrt[3]{x} + 2\sqrt{x}},$

12. $\int \frac{dx}{\cos x \sin^3 x},$

13. $\int \frac{dx}{(x+1)\sqrt{x^2+2x-1}}.$

2. Вычислить определенные интегралы

1. $\int_1^2 (x^2 + \frac{1}{x^4}) dx.$ 2. $\int_2^\pi \ln \sin x dx$

3. Вычислить площадь фигуры, ограниченной линиями

1) $3x - y = 4, \quad y^2 = 6x$

2) $r = \cos 2\varphi, \quad 0 \leq \varphi \leq \frac{\pi}{6}$

3) $\begin{cases} x = 2 \cos t, \\ y = 6 \sin t; \end{cases} \quad y = 3(y \geq 3).$

4. Вычислить длину дуги кривой, заданной уравнением

1) $y = \ln x, \quad \sqrt{3} \leq x \leq \sqrt{15}.$

2) $\rho = 3e^{3\varphi/4}, \quad -\pi/2 \leq \varphi \leq \pi/2$

3) $\begin{cases} x = e^t (\cos t + \sin t), \\ x = e^t (\cos t - \sin t), \end{cases} \quad \pi/2 \leq t \leq \pi.$

5. Вычислить объем тела, образованного вращением вокруг оси Оу фигуры, ограниченной графиками функций $x = 3 - y^2, \quad x = y^2 + 1$

ИДЗ №6 «ФНП: частные производные, экстремум»

1. Найти область определения функции $z = \frac{\ln(1-x^2-y^2)}{1-\sqrt{y}}.$

2. Найти значения частных производных функций в заданной точке:

А) $z = x^{\frac{1}{y}} \quad (1;1)$

Б) $z = \ln(\sqrt{x} + \sqrt{y}) \quad (1;1).$

3. Найти $\frac{\partial^2 u}{\partial x^2}$, если $u = xy + \sin(x+y).$

4. Вычислить приближенно $\sqrt{5 \cdot e^{0,02} + 2,03^2}.$

5. Найти экстремумы функции $z = x^2 + 2y^2 - 4x - 6y + 2$.

6. Найти производную функции $z = \frac{\ln x}{y} - \frac{\ln y}{x}$ в направлении вектора (1;1).

7. Найти экстремальное значение функции $z = 2x + y - y^2 - x^2$ при условии $x + 2y = 1$.

8. Найти наибольшее значение функции:

$$\text{А) } z = x - 2y + 5 \quad \begin{cases} x \geq 0 \\ y \geq 0 \\ x + y \leq 1; \end{cases} \quad \text{Б) } z = \ln(x^2 + y^2)$$

$$\begin{cases} x + 2y \leq 1 \\ x \geq 0 \\ y \geq 0. \end{cases}$$

ИДЗ №9 «Обыкновенные дифференциальные уравнения»

1. Найти общий интеграл или общее решение дифференциального уравнения первого порядка (в примере 3) решить задачу Коши):

1) $\sqrt{4-x^2} y' + xy^2 + x = 0$, 2) $y' = \frac{x^2 + 2xy - 5y^2}{2x^2 - 6xy}$,

3) $\begin{cases} xy' + y = xy^2 \\ y(1) = 1 \end{cases}$, 4) $\frac{y}{x^2} dx - \frac{xy+1}{x} dy = 0$.

2. Найти общее решение дифференциального уравнения:

1) $y'''x \ln x = y''$, 2) $(1+x^2)y'' + 2xy' = 12x^2$.

3. Найти решение задачи Коши: $\begin{cases} y'' = 2 \sin^3 y \cos y \\ y(1) = \frac{\pi}{2}, y'(1) = 1 \end{cases}$.

4. Найти общее решение дифференциального уравнения (в примере д) решить задачу Коши):

1) $y'' - 2y' + y = xe^x$, 2) $y'' + 4y' + 5y = x^2$

3) $y''' - 4y'' + 5y' = 6x^2 + 2x - 5$, 4) $y''' + 2y'' - 3y' = (8x + 6)e^x$,

5) $y'' - 4y' + 4y = e^{2x}(\cos x + 3\sin x)$, 6) $y''' - 64y' = 128\cos 8x - 64e^{8x}$,

7) $\begin{cases} y'' + y = 1/\sin x \\ y(\pi/2) = 1, y'(\pi/2) = \pi/2 \end{cases}$.

5. Решите систему ДУ первого порядка двумя способами - подстановки и методом Эйлера

$$\begin{cases} y' = 2x - 5y + e^t \\ x' = y - 6x + e^{-2t} \end{cases}$$

ИДЗ №10 «Теория вероятностей»

1. Производится 5 выстрелов по резервуару с горючим, причем резервуар после первого попадания в него воспламеняется, а после второго попадания в него – взрывается. Вероятность попадания в резервуар при каждом выстреле равна 0,3. Найти вероятность того, что резервуар будет подожжен, но не взорвется.

- В семье трое детей: 2 мальчика и девочка. Дети играют на кухне. Вероятность того, что мальчики разобьют посуду соответственно равна 0,7 и 0,8, а для девочки – 0,4. Найти вероятность того, что посуда будет разбита.
- Саша попадает в мишень при одном выстреле с вероятностью 0,8, Маша – с вероятностью 0,7, а Паша – с вероятностью 0,75. Саша выстрелил 2 раза, Маша – 3 раза, Паша – 1 раз, после чего в мишени было обнаружено одно отверстие. Какова вероятность того, что в мишень попала Маша?
- Разрыв связи происходит в одном из звеньев телефонного кабеля. Монтер последовательно проверяет звенья, обнаруживая место разрыва. Составить ряд распределения числа обследованных звеньев, если вероятность разрыва для каждого звена постоянна и равна p .
- Задан ряд распределения дискретной случайной величины X .

X	1	2	3	4	5	6
P	0,03	0,15	0,20	0,35	0,15	?

Построить многоугольник распределения. Определить функцию распределения и построить её график. Вычислить математическое ожидание m_x , дисперсию $D[X]$, среднее квадратическое отклонение σ_x и вероятность $P(m_x - \sigma_x \leq X \leq m_x + \sigma_x)$.

- Задана функция распределения случайной величины X

$$F(x) = \begin{cases} 0, & x < 3, \\ \frac{1}{4}(-x^3 + 12x^2 - 45x + 54), & 3 \leq x \leq 5, \\ 1, & x > 5. \end{cases}$$

Найти плотность распределения. Построить графики функции и плотности распределения. Вычислить математическое ожидание, дисперсию и вероятность $P(X \in (0, 4))$.

- В таблице приведён закон распределения вероятностей системы случайных величин (X, Y)

	X				
Y	- 2	- 1	0	1	2
1	0,01	0,03	0,04	0,14	0,08
2	0,07	0,06	0,04	0,10	0,05
3	0,05	0,03	0,16	0,06	a

Найти: коэффициент «а»; математические ожидания m_x, m_y ; дисперсии σ_x^2, σ_y^2 ; коэффициент корреляции r_{xy} .

ИДЗ №11 «Первичная обработка результатов эксперимента»

Дан статистический ряд (исходные значения величин)

X	У	X	У	X	У	X	У	X	У
38,4	18,7	40,7	24	30,3	18	27,3	25,1	22	21
40,2	11,7	50,8	9	28,4	15,7	38	20,6	32	28,6
24,1	20,9	38,2	22,8	47,6	11,3	52,8	15,2	19,5	19,7
32,5	22,4	36	19,8	30,3	21,3	48	24,5	46	20,3
25	29,5	35,7	15,3	30,5	27,8	26	28,7	27,8	15,5
38,1	19,6	34,3	20,7	48,7	11,5	32,5	28	35,2	30,7
16,8	32,2	43,8	13	16,8	18,3	57,1	2,9	41,6	18,2
28,8	29,7	35,5	24	23,9	20,2	40	23,8	42,5	15,3
47,1	14,7	45,9	24	54,3	14,2	50,7	15,9	32,9	22,5
50,1	15,9	29,3	21,9	60,8	27,2	58,6	9,3	35,6	22,7
30,2	25	54,2	14,2	21,4	19,8	40,1	17,4	47	17,3
36,9	23,2	59,8	6,1	38,4	23	34,4	23,4	31,4	30,2
36,6	7,9	32,2	22,3	46,8	20,5	53,7	12,4	28,2	30
38	15,4	52	6,1	23,8	18,3	42,1	28,5	33,7	19,8
55	11	31,2	24,2	37,9	32,6	43	20,2	27,6	18,5
16,2	25,2	51,2	14,2	30,6	21,5	23,5	14,6	36,8	10,7
49,7	15,9	32,2	20,4	37	24,5	32,9	25,8	45,5	14,8
49,7	19,5	30,9	20,7	57,6	20,3	54	14,4	18,6	15,3
42,3	19,7	41,5	10,8	41,9	14,6	42,3	23,5	25,8	27,4
35,7	11,9	41,2	9,8	34,1	26,3	58,8	9,2	39,2	17,5

Найти выражение двумерного эмпирического распределения (X, У), эмпирические распределения составляющих X и У, построить графическое отображение распределений.

Для этого - составить корреляционное поле, корреляционную таблицу абсолютных частот, вариационные ряды, таблицу «Статистическая совокупность измеримого признака».

ИДЗ №12 «Числовые характеристики генеральных параметров»

По данным, полученным в ИДЗ №11, оцените генеральные параметры: найдите среднее, дисперсия, среднее квадратичное отклонение, асимметрия, эксцесс, мода, медиана, коэффициент вариации для признаков X и Y . Оцените степень отклонения эмпирического распределения этого измеримого признака от нормального распределения.

Для этого заполните таблицу «Расчет выборочных оценок признаков» и проведите расчеты исправленных оценок генеральных параметров. Сделайте вывод о коэффициенте вариации.

ИДЗ №13 «Проверка статистических гипотез»

По данным, полученным в ИДЗ №11 и 12, провести статистическую проверку статистической гипотезы о нормальном распределении измеряемого признака по следующим критериям: а) среднему квадратичному отклонению, б) размаху варьирования, в) показателям исправленных асимметрии и эксцесса, г) критерию Пирсона χ^2 (уровень значимости принять равным 0.05). В случае принятия гипотезы о нормальности распределения найти доверительные интервалы для математического ожидания и среднего квадратичного отклонения при уровне надёжности 0.95.

ИДЗ №14 «Выяснение корреляционной зависимости измеримых признаков»

По данным задачи, исследуемой в ИДЗ №№ 11-13, найти и записать в корреляционную таблицу условные средние. На корреляционном поле построить линии регрессии. Найти исправленный корреляционный момент и коэффициент корреляции. Проверить гипотезу о независимости признаков X и Y (уровень значимости принять равным 0.05). Рассчитать коэффициенты линейной регрессии (X на Y или Y на X). Проверить значимость уравнения регрессии. Найти доверительные интервалы для коэффициентов корреляции и линейной регрессии (при уровне надёжности 0.95).

Приложение 2

Оценочные средства для проведения промежуточной аттестации

а) Планируемые результаты обучения и оценочные средства для проведения промежуточной аттестации:

Структурный элемент компетенции	Планируемые результаты обучения	Оценочные средства
ОПК-1 – способность анализировать задачи профессиональной деятельности на основе положений, законов и методов в области естественных наук и математики		
ОПК-1.1: Использует положения, законы и методы в области естественных наук и математики при решении практических задач	<ul style="list-style-type: none">- основные понятия и методы линейной, векторной алгебры и аналитической геометрии;- основные положения теории пределов и непрерывных функций, графики основных элементарных функций и их свойства;- основные теоремы дифференциального и интегрального исчисления функций одной и нескольких переменных, методы дифференциального исчисления исследования функций, основы численных методов вычисления определенных интегралов,- основные типы обыкновенных	Теоретические вопросы для зачета во 2 семестре 1. Векторы. Линейные операции над векторами. 2. Проекция вектора на ось. Модуль вектора. Направляющие косинусы. 3. Скалярное произведение векторов, его свойства. Приложения скалярного произведения в геометрии, физике. 4. Векторное произведение векторов, его свойства. Приложения векторного произведения. 5. Смешанное произведение векторов, его свойства. Приложения смешанного произведения. 6. Уравнения прямой на плоскости. 7. Уравнения плоскости в пространстве. 8. Уравнения прямой в пространстве. 9. Взаимное расположение прямых и плоскостей. Угол между ними. Расстояние от точки до прямой, плоскости. Точка пересечения прямой и плоскости. 10. Кривые второго порядка: окружность, эллипс, гипербола, парабола, их геометрические свойства и уравнения

Структурный элемент компетенции	Планируемые результаты обучения	Оценочные средства
	<p>дифференциальных уравнений и методы их решения;</p> <p>- основные положения теории рядов;</p> <p>- основные понятия теории вероятностей и математической статистики</p>	<p>11. Функция. Способы задания. Область определения. Основные элементарные функции, их свойства, графики.</p> <p>18. Предел функции в точке. Предел функции в бесконечности. Односторонние пределы.</p> <p>19. Бесконечно малые и бесконечно большие функции, связь между ними. Свойства бесконечно малых функций.</p> <p>20. Теоремы о пределах. Раскрытие неопределенностей.</p> <p>21. Замечательные пределы.</p> <p>22. Сравнение бесконечно малых функций. Эквивалентные бесконечно малые функции и основные теоремы о них. Применение к вычислению пределов.</p> <p>23. Непрерывность функции в точке. Точки разрыва и их классификация.</p> <p>24. Основные теоремы о непрерывных функциях. Свойства функций непрерывных на отрезке.</p> <p>25. Производная функции, ее геометрический и физический смысл.</p> <p>26. Уравнения касательной и нормали к кривой. Дифференцируемость функции в точке.</p> <p>27. Производная суммы, разности, произведения, частного функций. Производная сложной и обратной функций.</p> <p>28. Дифференцирование неявных и параметрически заданных функций.</p> <p>29. Логарифмическое дифференцирование.</p> <p>30. Производные высших порядков.</p> <p>31. Дифференциал функции. Геометрический смысл дифференциала. Основные теоремы о дифференциалах.</p> <p>32. Применение дифференциала к приближенным вычислениям.</p> <p>33. Основные теоремы дифференциального исчисления: Ролля, Лагранжа и Коши.</p> <p>34. Правило Лопиталю.</p> <p>35. Условия монотонности функций. Экстремумы функций. Необходимое и достаточное условия экстремума функции.</p> <p>36. Наибольшее и наименьшее значения функции на отрезке.</p>

Структурный элемент компетенции	Планируемые результаты обучения	Оценочные средства
		<p>37. Выпуклость графика функции. Точки перегиба. Необходимое и достаточное условия точек перегиба.</p> <p>38. Асимптоты графика функции.</p> <p>39. Первообразная. Неопределенный интеграл и его свойства. Таблица основных интегралов.</p> <p>40. Основные методы интегрирования: замена переменной и интегрирование по частям.</p> <p>41. Интегрирование рациональных функций.</p> <p>42. Интегрирование тригонометрических функций.</p> <p>43. Интегрирование иррациональных функций.</p> <p>44. Определенный интеграл как предел интегральной суммы, его свойства.</p> <p>45. Формула Ньютона – Лейбница. Основные свойства определенного интеграла.</p> <p>46. Вычисление определенного интеграла (замена переменной, интегрирование по частям). Интегрирование четных и нечетных функций в симметричных пределах.</p> <p>47. Несобственные интегралы.</p> <p>48. Геометрические и физические приложения определенного интеграла.</p> <p>Теоретические вопросы для экзамена в 3 семестре</p> <ol style="list-style-type: none"> 1. Область определения ФНП. Предел, непрерывность. Свойства функций, непрерывных в ограниченной замкнутой области. 2. Частные производные первого порядка, их геометрическое истолкование. 3. Частные производные высших порядков. 4. Дифференцируемость и полный дифференциал функции. 5. Применение полного дифференциала к приближенным вычислениям. Дифференциалы высших порядков. 6. Производная сложной функции. Полная производная. 7. Инвариантность формы полного дифференциала. 8. Дифференцирование неявной функции.

Структурный элемент компетенции	Планируемые результаты обучения	Оценочные средства
		<ol style="list-style-type: none"> 9. Касательная плоскость и нормаль к поверхности. 10. Экстремум функции двух переменных. Необходимое и достаточное условие экстремума. 11. Условный экстремум. Метод множителей Лагранжа. 12. Наибольшее и наименьшее значения функции в замкнутой области. 13. Дифференциальные уравнения: основные понятия. Задачи, приводящие к дифференциальным уравнениям. 14. Теорема существования и единственности решения дифференциального уравнения. 15. Уравнения с разделяющимися переменными. 16. Однородные дифференциальные уравнения 1 порядка. 17. Линейные уравнения. Уравнения Бернулли. 18. Уравнение в полных дифференциалах. 19. Дифференциальные уравнения высших порядков: основные понятия. 20. Уравнения, допускающие понижение порядка. 21. Линейные дифференциальные уравнения высших порядков. Линейные однородные дифференциальные уравнения 2, n-го порядков. 22. Интегрирование ЛОДУ с постоянными коэффициентами. 23. Линейные неоднородные ДУ. Структура общего решения ЛНДУ. 24. Метод вариации произвольных постоянных. 25. Интегрирование ЛНДУ с постоянными коэффициентами и правой частью специального вида. 26. Системы дифференциальных уравнений. Теорема существования и единственности решения. Метод исключения для решения нормальных систем дифференциальных уравнений. 27. Элементы комбинаторики: перестановки, размещения, сочетания. 28. Основные понятия теории вероятностей: испытание, событие, вероятность события.

Структурный элемент компетенции	Планируемые результаты обучения	Оценочные средства
		<p>29. Действия над событиями. Алгебра событий.</p> <p>30. Теоремы сложения и умножения вероятностей.</p> <p>31. Формула полной вероятности. Формула Байеса.</p> <p>32. Последовательность независимых испытаний. Формула Бернулли.</p> <p>33. Случайные величины, их виды.</p> <p>34. Ряд распределения. Функция распределения, ее свойства. Плотность распределения, свойства.</p> <p>35. Числовые характеристики случайных величин: математическое ожидание, дисперсия, среднее квадратическое отклонение.</p> <p>36. Нормальный закон распределения случайной величины.</p> <p>37. Системы случайных величин. Закон распределения. Числовые характеристики системы случайных величин. Зависимость случайных величин.</p> <p>38. Предмет математической статистики. Генеральная совокупность и выборка. Вариационный ряд. Полигон. Гистограмма. Эмпирическая функция распределения.</p> <p>39. Статистические оценки параметров распределения генеральной совокупности.</p> <p>40. Статистическая проверка гипотез. Критерий согласия. Критерий Пирсона.</p> <p>41. Корреляционный анализ. Эмпирический коэффициент корреляции.</p> <p>42. Нахождение уравнения линейной регрессии методом наименьших квадратов.</p>
<p>ОПК-1.2: Решает стандартные профессиональные задачи с применением методов математического анализа</p>	<p>- решает задачи по изучаемым теоретически разделам;</p> <p>- обсуждает способы эффективного решения дифференциальны</p>	<p><i>Примерные практические задания для экзамена и зачета с оценкой:</i></p> <p>1. Вычислите пределы:</p>

Структурный элемент компетенции	Планируемые результаты обучения	Оценочные средства
	<p>х уравнений и их систем; определять эффективность решения задачи, полученного с помощью численных методов;</p> <p>- распознает эффективные результаты обработки экспериментальных данных от неэффективных</p>	<p>а) $\lim_{x \rightarrow \infty} \frac{1+4x-x^4}{x+3x^2+2x^4}$; б) $\lim_{x \rightarrow 0} \frac{3x \cdot \arcsin 2x}{\cos x - \cos^3 x}$; в) $\lim_{x \rightarrow 3} \frac{\sqrt{2x-1} - \sqrt{5}}{x-3}$.</p> <p>2. Найдите $\frac{dy}{dx}$ для функций: а) $y = e^{4x-x^2}$.</p> <p>б) $\begin{cases} x = \operatorname{ctg} 2t, \\ y = \ln(\sin 2t). \end{cases}$</p> <p>3. Вычислить: а) $\sqrt[3]{-\sqrt{3}+i}$, б) $(1-i)^{28}$.</p> <p>4. Найти неопределённый интеграл: а) $\int \sin 3x \cdot \cos 5x dx$, б) $\int \frac{1-\cos x}{(x-\sin x)^2} dx$. в) $\int (2x+5) \cdot e^x dx$.</p> <p>5. Вычислить определенный интеграл $\int_2^{\sqrt{20}} \frac{xdx}{\sqrt{x^2+5}}$.</p> <p>6. Вычислить определенный интеграл $\int_0^1 4x \cdot \arcsin x dx$.</p> <p>7. Найти площадь фигуры, ограниченной линиями: $x = 4$, $y^2 = 4x$.</p> <p>8. Найти и построить область определения функции $u = \sqrt{9-x^2-y^2} + (x-y)^3$.</p> <p>9. Найти полный дифференциал функции: $z = x^3 \ln y - \sin 2xy$.</p> <p>10. Найти частные производные первого порядка функции: $z = 5x^2 y^3 + \ln(x+4y)$.</p>

Структурный элемент компетенции	Планируемые результаты обучения	Оценочные средства
		<p>11. Написать уравнение касательной плоскости и нормали к поверхности $z = \sqrt{x^2 + y^2}$ в точке (3, 4, 5).</p> <p>12. Исследовать на экстремум функцию $z = x^2 - 2xy + 4y^3$</p> <p>13. Решите задачу Коши: $y \cos^2 x dy = (y^2 + 1)dx, y(0) = 0.$</p> <p>14. Найдите общее решение дифференциального уравнения $y'' + y' = e^{2x}.$</p> <p>15. Решить однородную систему дифференциальных уравнений:</p> $\begin{cases} x' = 6x - y, \\ y' = x + 4y. \end{cases}$
<p>ОПК-1.3: Применяет естественнонаучные знания и методы математического анализа в профессиональной деятельности</p>	<p>Владеет:</p> <ul style="list-style-type: none"> - практическими навыками использования математических понятий и методов (изучаемых разделов математики) при решении прикладных задач; - навыками обобщения результатов решения, результатов обработки статистического эксперимента 	<p>Примерные прикладные задачи и задания</p> <p>Задача 1. Для решения задачи сделайте схематический чертеж и получите функциональную зависимость по указанию к задаче. Найдите область определения этой функции по смыслу задачи. Вычислите значения этой функции при трех различных значениях аргумента. Исследуйте функцию на наибольшее и наименьшее значения. Ответьте на вопрос задачи. «Сечение тоннеля имеет форму прямоугольника, завершеного полукругом. Периметр сечения 18 м. При каком радиусе полукруга площадь сечения будет наибольшей?» Обозначьте радиус полукруга через r и выразите площадь S сечения как функцию от r: $S = S(r)$.</p> <p>Задание 2. Составьте алгоритм решения линейного однородного дифференциального уравнения с постоянными коэффициентами.</p> <p>Задача 3. Для изучения количественного признака X из генеральной совокупности</p>

Структурный элемент компетенции	Планируемые результаты обучения	Оценочные средства																		
		<p>извлечена выборка x_1, \dots, x_n объема n, имеющая данное статистическое распределение.</p> <ol style="list-style-type: none"> 1). Постройте полигон частот. 2). Постройте эмпирическую функцию распределения. 3). Постройте гистограмму относительных частот. 4). Найдите выборочное среднее \bar{x}, выборочную дисперсию D_B, выборочное среднее квадратическое отклонение σ_B, исправленную дисперсию s^2 и исправленное среднее квадратическое отклонение s. 5). При данном уровне значимости α проверьте по критерию Пирсона гипотезу о нормальном распределении генеральной совокупности. 6). В случае принятия гипотезы о нормальном распределении найдите доверительные интервалы для математического ожидания a и среднего квадратического отклонения σ при данном уровне надежности $\gamma = 1 - \alpha$. (Принять $\alpha = 0,01$). <table border="1" data-bbox="820 1487 1471 1644"> <tbody> <tr> <td>x_i</td> <td>9</td> <td>13</td> <td>17</td> <td>21</td> <td>25</td> <td>29</td> <td>33</td> <td>37</td> </tr> <tr> <td>n_i</td> <td>5</td> <td>10</td> <td>19</td> <td>23</td> <td>25</td> <td>19</td> <td>12</td> <td>7</td> </tr> </tbody> </table>	x_i	9	13	17	21	25	29	33	37	n_i	5	10	19	23	25	19	12	7
x_i	9	13	17	21	25	29	33	37												
n_i	5	10	19	23	25	19	12	7												
<p>ОПК-2 - способность формулировать задачи профессиональной деятельности на основе знаний профильных разделов математических и естественнонаучных дисциплин</p>																				
<p>ОПК-2.1: Выполняет постановку задач в формализованном виде на основе знаний</p>	<p>- основные понятия и методы линейной, векторной алгебры</p>	<p><i>Примерные практические задания для экзамена и зачета:</i></p> <p>1. Решить матричное уравнение $X+3(A-B)=4C$, где</p>																		

Структурный элемент компетенции	Планируемые результаты обучения	Оценочные средства
<p>профильных разделов математических и естественнонаучных дисциплин в области профессиональной деятельности</p>	<p>и аналитической геометрии;</p> <ul style="list-style-type: none"> - основные положения теории пределов и непрерывных функций, графики основных элементарных функций и их свойства; - основные теоремы дифференциального и интегрального исчисления функций одной и нескольких переменных, методы дифференциального исчисления исследования функций, основы численных методов вычисления определенных интегралов, - основные типы обыкновенных дифференциальных уравнений и методы их решения; - основные положения теории рядов; - основные понятия теории вероятностей и математической статистики 	$A = \begin{pmatrix} 1 & 3 \\ -2 & -4 \end{pmatrix}, \quad B = \begin{pmatrix} 3 & 8 \\ -7 & 5 \end{pmatrix},$ $C = \begin{pmatrix} 8 & 6 \\ -3 & 9 \end{pmatrix}.$ <p>2. Решить системы линейных алгебраических уравнений по формулам Крамера, матричным методом, методом Гаусса:</p> $\begin{cases} 3x_1 + 4x_2 + 2x_3 = 3 \\ 2x_1 - x_2 - 3x_3 = -3 \\ x_1 + 5x_2 + x_3 = -2 \end{cases}$ <p>3. Даны координаты вершин пирамиды $A_1A_2A_3A_4$:</p> $A_1(1;3;6), \quad A_2(2;2;1), \quad A_3(-1;0;1), \quad A_4(-4;6;-3).$ <p>Найти:</p> <ol style="list-style-type: none"> 1) длину ребра A_1A_2; 2) угол между ребрами A_1A_2 и A_1A_4; 3) угол между ребром A_1A_4 и гранью $A_1A_2A_3$; 4) площадь грани $A_1A_2A_3$; 5) объем пирамиды. <ol style="list-style-type: none"> 4. В треугольнике с вершинами $A(2,1)$, $B(5,3)$, $C(-6,5)$ найти длину высоты из вершины A. 5. Написать канонические и параметрические уравнения прямой, проходящей через точки $M(2,1,-1)$ и $K(3,3,-1)$. 6. Составить уравнение плоскости, проходящей через точки $A(1,0,2)$, $B(-1,2,0)$, $C(3,3,2)$. 7. Доказать, что прямые параллельны: $\frac{x+2}{3} = \frac{y-1}{-2} = \frac{z}{1} \quad \text{и} \quad \begin{cases} x+y-z=0 \\ x-y-5z-8=0 \end{cases}.$ 8. Найти угол между прямой, проходящей через точку $A(-1,0,-5)$ и точку $B(1,2,0)$, и плоскостью $x-3y+z+5=0$.

Структурный элемент компетенции	Планируемые результаты обучения	Оценочные средства												
		<p>9. Определить тип кривой 2-го порядка и построить линию: $x^2 - 9y^2 + 2x + 18y + 73 = 0$</p> $2x^2 + 3y^2 - 4x + 6y - 7 = 0$ $y^2 - 4x - 2y - 3 = 0$ <p>10. При доставке с завода на базу 1000 радиоприемников, у 55 вышли из строя лампы. Найти вероятность того, что взятый наудачу приемник будет исправным.</p> <p>11. Пятнадцать экзаменационных билетов содержат по 2 вопроса, которые не повторяются, экзаменуемый знает только 25 вопросов. Найти вероятность того, что экзамен будет сдан, если для этого достаточно ответить на два вопроса одного билета.</p> <p>12. Принимаем вероятности рождения мальчика и девочки равными. Найти вероятность того, что среди 10 новорожденных 6 окажутся мальчиками.</p> <p>13. Дан закон распределения дискретной случайной величины:</p> <table border="1" data-bbox="906 1283 1385 1424"> <tr> <td>x:</td> <td>110</td> <td>120</td> <td>130</td> <td>140</td> <td>150</td> </tr> <tr> <td>p:</td> <td>0.1</td> <td>0.2</td> <td>0.3</td> <td>0.2</td> <td>0.2</td> </tr> </table> <p>вычислить ее математическое ожидание, дисперсию и среднее квадратическое отклонение.</p> <p>14. Дана функция распределения непрерывной случайной величины X</p> $F(x) = \begin{cases} 0 & \text{при } x < 0 \\ 0,25x^3(x+3) & \text{при } 0 \leq x \leq 1 \\ 1 & \text{при } x > 1 \end{cases}$ <p>Найти плотность распределения $f(x)$, построить ее график, вероятность попадания в заданный интервал $[0,5; \dots]$, Mx, Dx, σ_x.</p>	x:	110	120	130	140	150	p:	0.1	0.2	0.3	0.2	0.2
x:	110	120	130	140	150									
p:	0.1	0.2	0.3	0.2	0.2									

Структурный элемент компетенции	Планируемые результаты обучения	Оценочные средства																														
		<p>15. Задано распределение вероятностей дискретной двумерной случайной величины:</p> <table border="1" data-bbox="911 349 1469 562"> <tr> <td>Y \ X</td> <td>2</td> <td>5</td> <td>8</td> </tr> <tr> <td>0,4</td> <td>0,15</td> <td>0,30</td> <td>0,35</td> </tr> <tr> <td>0,8</td> <td>0,05</td> <td>0,12</td> <td>0,03</td> </tr> </table> <p>Найти законы распределения составляющих, коэффициент корреляции</p> <p>16. По выборке при заданном уровне значимости $\alpha = 0,05$ проверить по критерию Пирсона гипотезу о нормальном распределении генеральной совокупности. В случае принятия гипотезы о нормальном распределении найти доверительные интервалы для математического ожидания a и среднего квадратического отклонения σ при уровне надежности $\gamma = 1 - \alpha$</p> <table border="1" data-bbox="821 1093 1469 1256"> <tr> <td>x_i</td> <td>4</td> <td>7</td> <td>10</td> <td>13</td> <td>16</td> <td>19</td> <td>22</td> <td>25</td> </tr> <tr> <td>n_i</td> <td>6</td> <td>11</td> <td>14</td> <td>22</td> <td>20</td> <td>13</td> <td>9</td> <td>5</td> </tr> </table> <p>17. Из нормальной генеральной совокупности извлечена выборка объема $n = 15$:</p> <p>143, 121, 135, 132, 120, 116, 115, 143, 115, 120, 138, 133, 148, 133, 134.</p> <p>Требуется при уровне значимости $\alpha = 0,05$ проверить нулевую гипотезу $H_0 : \sigma^2 = \sigma_0^2 = 55$, приняв в качестве конкурирующей гипотезы: а) $H_1 : \sigma^2 \neq 55$, б) $H_1 : \sigma^2 > 55$ или $H_1 : \sigma^2 < 55$ в зависимости от полученного значения σ^2.</p>	Y \ X	2	5	8	0,4	0,15	0,30	0,35	0,8	0,05	0,12	0,03	x_i	4	7	10	13	16	19	22	25	n_i	6	11	14	22	20	13	9	5
Y \ X	2	5	8																													
0,4	0,15	0,30	0,35																													
0,8	0,05	0,12	0,03																													
x_i	4	7	10	13	16	19	22	25																								
n_i	6	11	14	22	20	13	9	5																								
ОПК-2.2: Выбирает математический аппарат для решения	Владеет: - способами оценивания значимости и	<p>Примерные прикладные задачи и задания</p> <p>Задача 1. Зависимость пути от времени при прямолинейном движении точки задается</p>																														

Структурный элемент компетенции	Планируемые результаты обучения	Оценочные средства
формализованных задач в области профессиональной деятельности	<p>практической пригодности полученных результатов;</p> <p>- навыками построения и решения математических моделей прикладных задач</p>	<p>уравнением $s = \frac{1}{3}t^3 + 2t^2 - 3$, где s — путь в м, а t — время в с. Вычислите ее скорость и ускорение в момент времени $t = 4с$.</p> <p>Задание 2. Подумайте, с помощью средств какого раздела математики можно решить следующую задачу.</p> <p>«Для уборки снега на улицах города используются снегоуборочные машины. Они работают в течение светлого времени суток с 6 до 18 часов с постоянной скоростью уборки снега 400 (м³/ч). Изменение объема снега, выпадающего на улицы города в городе в течение суток, можно описать уравнением $\frac{dS}{dt} = 120t - 5t^2$, где $S(t)$ – объем снега (в м³), выпавшего за время t (в часах), $0 \leq t \leq 24$. В момент времени $t = 0$ на улицах города лежит 1000 м³ снега. Установите соответствие между временем t и объемом снега, лежащего на улицах города $S(t)$. »</p> <p>Составьте математическую модель этой задачи и решите её.</p>

б) Порядок проведения промежуточной аттестации, показатели и критерии оценивания:

Промежуточная аттестация по дисциплине «Математика» включает теоретические вопросы, позволяющие оценить уровень усвоения обучающимися знаний, и практические задания, выявляющие степень сформированности умений и владений, проводится в форме зачета (2 семестр) и в форме экзамена (3 семестр).

Экзамен по данной дисциплине проводится в устной форме по экзаменационным билетам, каждый из которых включает 2 теоретических вопроса и два практических задания.

Показатели и критерии оценивания экзамена и зачета:

- на оценку **«отлично»** – обучающийся демонстрирует высокий уровень сформированности компетенций, всестороннее, систематическое и глубокое знание учебного материала, свободно выполняет практические задания, свободно оперирует знаниями, умениями, применяет их в ситуациях повышенной сложности.
- на оценку **«хорошо»** – обучающийся демонстрирует средний уровень сформированности компетенций: основные знания, умения освоены, но допускаются незначительные ошибки, неточности, затруднения при аналитических операциях, переносе знаний и умений на новые, нестандартные ситуации.
- на оценку **«удовлетворительно»** – обучающийся демонстрирует пороговый уровень сформированности компетенций: в ходе контрольных мероприятий допускаются ошибки, проявляется отсутствие отдельных знаний, умений, навыков, обучающийся испытывает значительные затруднения при оперировании знаниями и умениями при их переносе на новые ситуации.
- на оценку **«неудовлетворительно»** – обучающийся демонстрирует знания не более 20% теоретического материала, допускает существенные ошибки, не может показать интеллектуальные навыки решения простых задач или не может показать знания даже на уровне воспроизведения и объяснения информации.

Показатели и критерии оценивания зачета:

- для **сдачи зачета** обучающийся показывает сформированность компетенции ОПК-1, ОПК-2 по разделам 2-го семестра, т.е. показывает соответствующие знания (по крайней мере, на уровне воспроизведения и объяснения информации) и интеллектуальные навыки решения предложенных в таблице п.7а) задач;
- **зачет не сдан**, если результат обучения не достигнут, обучающийся не может показать знания на уровне воспроизведения и объяснения информации, не может показать интеллектуальные навыки решения простых задач.