



МИНИСТЕРСТВО НАУКИ И ВЫСШЕГО ОБРАЗОВАНИЯ
РОССИЙСКОЙ ФЕДЕРАЦИИ

Федеральное государственное бюджетное образовательное учреждение
высшего образования
«Магнитогорский государственный технический университет им. Г.И.
Носова»



УТВЕРЖДАЮ
Директор ИЕиС
Ю.В. Сомова

02.02.2026 г.

РАБОЧАЯ ПРОГРАММА ДИСЦИПЛИНЫ (МОДУЛЯ)

ФИЗИКА

Направление подготовки (специальность)
20.03.01 Техносферная безопасность

Направленность (профиль/специализация) программы
Управление экологической и промышленной безопасностью

Уровень высшего образования - бакалавриат

Форма обучения
заочная

Институт/ факультет	Институт естествознания и стандартизации
Кафедра	Физики
Курс	1

Магнитогорск
2026 год

Рабочая программа составлена на основе ФГОС ВО - бакалавриат по направлению подготовки 20.03.01 Техносферная безопасность (приказ Минобрнауки России от 25.05.2020 г. № 680)

Рабочая программа рассмотрена и одобрена на заседании кафедры Физики
27.01.2026, протокол № 3

Зав. кафедрой  Д.М. Долгушин

Рабочая программа одобрена методической комиссией КИиС
02.02.2026 г. протокол № 4

Председатель  Ю.В. Сомова

Согласовано:


Зав. кафедрой Промышленной экологии и безопасности жизнедеятельности

 Ю.В. Сомова

Рабочая программа составлена:

ст.преподаватель кафедры Физики,  М.А. Смирнова

Рецензент:

зав. кафедрой ПМИИ, д-р техн. наук  Ю.А. Извеков

1 Цели освоения дисциплины (модуля)

овладение базовыми знаниями основных законов механики и оптики;
применение основных законов и явлений механики и оптики при решении задач, возникающих в последующей профессиональной деятельности;
приобретение навыков экспериментального исследования физических процессов, освоение методов получения и обработки эмпирической информации для успешного формирования и развития общекультурных, общепрофессиональных и профессиональных компетенций по видам профессиональной деятельности в соответствии с требованиями ФГОС ВО и направленностью (профилем) ОП

2 Место дисциплины (модуля) в структуре образовательной программы

Дисциплина Физические основы механики и оптики входит в обязательную часть учебного плана образовательной программы.

Для изучения дисциплины необходимы знания (умения, владения), сформированные в результате изучения дисциплин/ практик:

«Физика», «Математика», «Химия» на базе среднего (полного) общего образования.

Изучение физики базируется на знании таких разделов математики как дифференциальное и интегральное исчисление, дифференциальные уравнения, векторный анализ, гармонический анализ, теория функции комплексного переменного, линейная алгебра, уравнения математической физики. Из курса химии необходимы знания следующих разделов: периодическая система Д.И.Менделеева, структура периодической системы, строение атома, электронные и электронно-графические формулы элементов, электрохимия.

Знания (умения, владения), полученные при изучении данной дисциплины будут необходимы для изучения дисциплин/практик:

Безопасность жизнедеятельности
Математическая статистика
Проектная деятельность
Математическая логика и дискретная математика

3 Компетенции обучающегося, формируемые в результате освоения дисциплины (модуля) и планируемые результаты обучения

В результате освоения дисциплины (модуля) «Физические основы механики и оптики» обучающийся должен обладать следующими компетенциями:

Код индикатора	Индикатор достижения компетенции
ОПК-1	Способен применять естественнонаучные и общеинженерные знания, методы математического анализа и моделирования, теоретического и экспериментального исследования в профессиональной деятельности;
ОПК-1.1	Решает стандартные профессиональные задачи с применением естественнонаучных и общеинженерных знаний, методов математического анализа и моделирования
ОПК-1.2	Решает профессиональные задачи с применением методов теоретического и экспериментального исследования

4. Структура, объём и содержание дисциплины (модуля)

Общая трудоемкость дисциплины составляет 7 зачетных единиц 252 акад. часов, в том числе:

- контактная работа – 17,4 акад. часов;
- аудиторная – 16 акад. часов;
- внеаудиторная – 1,4 акад. часов;
- самостоятельная работа – 222,8 акад. часов;
- в форме практической подготовки – 0 акад. час;

– подготовка к зачёту – 3,9 акад. час

Форма аттестации - зачет, зачет с оценкой

Раздел/ тема дисциплины	Курс	Аудиторная контактная работа (в акад. часах)			Самостоятельная работа студента	Вид самостоятельной работы	Форма текущего контроля успеваемости и промежуточной аттестации	Код компетенции
		Лек.	лаб. зан.	практ. зан.				
1. Физические основы механики								
1.1 Кинематика поступательного и вращательного движений	1	1			25	подготовка к семинарскому, контрольная работа; самостоятельное изучение учебной и научной литературы	проверка индивидуальных заданий; консультации	ОПК-1.1, ОПК-1.2
1.2 Динамика материальной точки и поступательного движения твердого тела		0,5			20	подготовка к семинарскому, контрольная работа; самостоятельное изучение учебной и научной литературы	проверка индивидуальных заданий; консультации	ОПК-1.1, ОПК-1.2
1.3 Законы сохранения в механике		1	2		15	подготовка к семинарскому, лабораторному занятию; выполнение практических работ (решение задач, письменных работ); контрольная работа; самостоятельное изучение учебной и научной	лабораторные работы; проверка индивидуальных заданий; консультации	ОПК-1.1, ОПК-1.2

						литературы		
1.4 Механические колебания и волны	1	0,5			15	подготовка к семинарскому, контрольная работа; самостоятельное изучение учебной и научной литературы	проверка индивидуальных заданий; консультации	ОПК-1.1, ОПК-1.2
1.5 Элементы релятивистской механики		0,2			25	подготовка к семинарскому, контрольная работа; самостоятельное изучение учебной и научной литературы	проверка индивидуальных заданий; консультации	ОПК-1.1, ОПК-1.2
1.6 Элементы квантовой механики		0,8	2		31,4	подготовка к семинарскому, лабораторному занятию; выполнение практических работ (решение задач, письменных работ); контрольная работа; самостоятельное изучение учебной и научной литературы	лабораторные работы; проверка индивидуальных заданий; консультации	ОПК-1.1, ОПК-1.2
Итого по разделу		4	4		131,4			
Итого за семестр		4	4		131,4		зачёт	
2. Физические основы оптики								
2.1 Электромагнитные волны	2	1			21,4	подготовка к семинарскому, контрольная работа; самостоятельное изучение учебной и научной литературы	семинарские занятия; проверка индивидуальных заданий; консультации	ОПК-1.1, ОПК-1.2
2.2 Геометрическая оптика		1			15	подготовка к семинарскому, контрольная работа; самостоятельное изучение учебной и научной литературы	семинарские занятия; проверка индивидуальных заданий; консультации	ОПК-1.1, ОПК-1.2
2.3 Волновая оптика		1	2		30	подготовка к семинарскому,	лабораторные работы;	ОПК-1.1, ОПК-1.2

						лабораторному занятию; выполнение практических работ (решение задач, письменных работ); контрольная работа; самостоятельное изучение учебной и научной литературы	семинарские занятия; проверка индивидуальных заданий; консультации	
2.4 Квантовая оптика	2	1	2		25	подготовка к семинарскому, лабораторному занятию; выполнение практических работ (решение задач, письменных работ); контрольная работа; самостоятельное изучение учебной и научной литературы	лабораторные работы; семинарские занятия; проверка индивидуальных заданий; консультации	ОПК-1.1, ОПК-1.2
Итого по разделу		4	4		91,4			
Итого за семестр		4	4		91,4		зао	
Итого по дисциплине		8	8		222,8		зачет, зачет с оценкой	

5 Образовательные технологии

Для формирования компетенций и реализации предусмотренных видов учебной работы в учебном процессе используются традиционная и модульно-компетентностная технологии.

Используются следующие виды лекций:

вводная лекция – знакомит студентов с целью и назначением курса, его ролью и местом в системе учебных дисциплин; дается краткий исторический обзор развития данной науки, связывается теоретическое содержание учебной дисциплины с будущей практической работой специалиста, дается характеристика учебно-методических пособий по курсу, выдается список литературы и сообщаются экзаменационные требования;

информационная лекция - традиционная лекция, на которой происходит изложение содержания учебной дисциплины;

обзорная лекция – читается в конце раздела; в ней отражаются все основные теоретические положения, составляющие научно-понятийную основу данного раздела, исключая детализацию и второстепенный материал;

проблемная лекция – используется как элемент в составе лекции, когда перед студентами ставится некоторая проблема и предлагается найти подходы и пути к ее решению;

лекция-визуализация – лекции с применением физических демонстраций с объяснением происходящих явлений, блоков информации в виде схем, таблиц, рисунков, а также компьютерных демонстраций.

Теоретический материал закрепляется в ходе лабораторных, практических, семинарских занятиях.

В ходе лабораторных занятий практикуется интерактивные методы обучения, такие как работа в малых группах(2-4 человека), индивидуальное обучение, контролируемая самостоятельная работа. При обработке результатов физического эксперимента применяются IT-методы.

6 Учебно-методическое обеспечение самостоятельной работы обучающихся

Представлено в приложении 1.

7 Оценочные средства для проведения промежуточной аттестации

Представлены в приложении 2.

8 Учебно-методическое и информационное обеспечение дисциплины

а) Основная литература:

1. Демидченко, В. И. Физика : учебник / В. И. Демидченко, И. В. Демидченко. — 6-е изд., перераб. и доп. — Москва : ИНФРА-М, 2023. — 581 с. + Доп. материалы [Электронный ресурс]. — (Высшее образование: Бакалавриат). - ISBN 978-5-16-010079-1. - Текст : электронный. - URL:

<https://znanium.ru/catalog/product/1913243> (дата обращения: 26.02.2026). – Режим доступа: по подписке.

2. Кузнецов, С. И. Физика. Механика. Механические колебания и волны. Молекулярная физика. Термодинамика : учебное пособие / С. И. Кузнецов. — 4-е изд., испр. и доп. — Москва : Вузковский учебник : ИНФРА-М, 2020. — 248 с. - ISBN 978-5-9558-0317-3. - Текст : электронный. - URL:

<https://znanium.com/catalog/product/1084382> (дата обращения: 26.02.2026). – Режим доступа: по подписке.

3. Кузнецов, С. И. Физика. Основы электродинамики. Электромагнитные колебания и волны : учебное пособие / С. И. Кузнецов. — 4-е изд., испр. и доп. — Москва : Вузовский учебник : ИНФРА-М, 2022. - 231 с. - ISBN 978-5-9558-0332-6. - Текст : электронный. - URL: <https://znanium.ru/catalog/product/1850635> (дата обращения: 26.02.2026). – Режим доступа: по подписке.

4. Кузнецов, С. И. Физика. Волновая оптика. Квантовая природа излучения. Элементы атомной и ядерной физики : учебное пособие / С.И. Кузнецов, А.М. Лидер. — 3-е изд., перераб. и доп. — Москва : Вузовский учебник : ИНФРА-М, 2024. — 212 с. - ISBN 978-5-9558-0350-0. - Текст : электронный. - URL: <https://znanium.com/catalog/product/2120774> (дата обращения: 26.02.2026). – Режим доступа: по подписке.

б) Дополнительная литература:

1. Фирганг, Е. В. Руководство к решению задач по курсу общей физики : учебное пособие для вузов / Е. В. Фирганг. — 5-е изд., стер. — Санкт-Петербург : Лань, 2026. — 352 с. — ISBN 978-5-507-51342-0. — Текст : электронный // Лань : электронно-библиотечная система. — URL: <https://e.lanbook.com/book/510361> (дата обращения: 26.02.2026). — Режим доступа: для авториз. пользователей.

2. Кузнецов, С. И. Справочник по физике : учеб. пособие / С. И. Кузнецов, К. И. Рогозин. - Томск : Изд-во Томского политех. университета, 2014. - 220 с. - ISBN 978-5-4387-0443-0. - Текст : электронный. - URL: <https://znanium.com/catalog/product/675274> (дата обращения: 26.02.2026). – Режим доступа: по подписке.

в) Методические указания:

1. Механика. Пособие по подготовке и выполнению лабораторных работ : учебное пособие [для вузов] / О. Н. Вострокнутова, В. В. Мавринский, Н. И. Мишенева, Ю. И. Савченко ; Магнитогорский гос. технический ун-т им. Г. И. Носова. - Магнитогорск : МГТУ им. Г. И. Носова, 2021. - 1 CD-ROM. - ISBN 978-5-9967-2124-5. - Загл. с титул. экрана. - URL: <https://host.megaprolib.net/MP0109/Download/MObject/2968> (дата обращения: 30.01.2026). - Макрообъект. - Текст : электронный. - Сведения доступны также на CD-ROM.
2. Вечеркин, М. В. Цепи постоянного тока: практикум по физике : учебное пособие / М. В. Вечеркин, О. В. Кривко. — Магнитогорск : МГТУ им. Г.И. Носова, 2022. — 81 с. — ISBN 978-5-9967-2300-3. — Текст : электронный // Лань : электронно-библиотечная система. — URL: <https://e.lanbook.com/book/366005> (дата обращения: 26.02.2026). — Режим доступа: для авториз. пользователей.
3. Савченко, Ю. И. Переменный ток : лабораторный практикум / Ю, И. Савченко, О. Н. Вострокнутова, Н. И. Мишенева ; МГТУ . - Магнитогорск : МГТУ, 2018. - 1 электрон. опт. диск (CD-ROM). - Загл. с титул. экрана. - URL: <https://host.megaprolib.net/MP0109/Download/MObject/2081> (дата обращения: 30.01.2026). - Макрообъект. - Текст : электронный. - Сведения доступны также на CD-ROM.
4. Физика твердого тела, атома и атомного ядра : учебное пособие [для вузов] / С. А. Бутаков [и др.] ; Магнитогорский гос. технический ун-т им. Г. И. Носова. - Магнитогорск : МГТУ им. Г. И. Носова, 2019. - 1 CD-ROM. - Загл. с титул. экрана. - URL: <https://host.megaprolib.net/MP0109/Download/MObject/2393> (дата обращения: 30.01.2026). - Макрообъект. - Текст : электронный. - Сведения доступны также на CD-ROM.
5. Богачева, И. Ю. Волновая оптика: учебное пособие [для вузов] / И. Ю. Богачева, М. А. Лисовская, И. В. Рыскужина ; Магнитогорский гос. технический ун-т им. Г. И. Носова. - 2-е изд. - Магнитогорск : МГТУ им. Г. И. Носова, 2019. - 1 CD-ROM. - Загл. с титул. экрана. - URL: <https://host.megaprolib.net/MP0109/Download/MObject/2415> (дата обращения: 30.01.2026). - Макрообъект. - Текст : электронный. - Сведения доступны также на CD-ROM.
6. Богачева, И. Ю. Волновая и квантовая оптика: учебно-методическое пособие по курсу «Физические основы механики и оптики»: учебно-методическое пособие [для вузов] / И. Ю. Богачева ; Магнитогорский государственный технический университет им. Г. И. Носова. - Магнитогорск : МГТУ им. Г. И. Носова, 2025. - 1 CD-ROM. - Загл. с титул. экрана. - URL: <https://host.megaprolib.net/MP0109/Download/MObject/22833> (дата обращения: 30.01.2026). - ISBN 978-5-9967-3282-1. - Макрообъект. - Текст : электронный. - Сведения доступны также на CD-ROM.
7. Кочкин, Ю. П. Учебные задачи по физике : учебное пособие / Ю. П. Кочкин, И. Ю. Богачева ; МГТУ. - [2-е изд., подгот. по печ. изд. 2014 г.]. - Магнитогорск : МГТУ, 2015. - 1 электрон. опт. диск (CD-ROM). - Загл. с титул. экрана. - URL: <https://host.megaprolib.net/MP0109/Download/MObject/550> (дата обращения: 30.01.2026). - Макрообъект. - Текст : электронный. - Сведения доступны также на CD-ROM.

г) Программное обеспечение и Интернет-ресурсы:

Программное обеспечение

Наименование ПО	№ договора	Срок действия лицензии
MS Office 2007 Professional	№ 135 от 17.09.2007	бессрочно
7Zip	свободно распространяемое ПО	бессрочно
Adobe Design Premium CS 5.5 Academic Edition	К-615-11 от 12.12.2011	бессрочно

Профессиональные базы данных и информационные справочные системы

Название курса	Ссылка
Федеральное государственное бюджетное учреждение «Федеральный институт промышленной собственности»	URL: http://www1.fips.ru/
Электронная база периодических изданий ООО «ИВИС»	https://eivis.ru/

9 Материально-техническое обеспечение дисциплины (модуля)

Материально-техническое обеспечение дисциплины включает:

Учебные аудитории для проведения занятий лекционного типа:
Мультимедийные средства хранения, передачи и представления информации.

Учебная аудитория для проведения лабораторных работ: Лаборатория механики, Лаборатория электричества и оптики, Лаборатория атома, твердого тела, ядра:

Лабораторные установки, измерительные приборы для проведения лабораторных работ:

1. Баллистические маятники.
2. Маятник Обербека.
3. Физический маятник.
4. Установка лабораторная для изучения зависимости скорости звука от температуры "МФ-СЗ-М"
5. Лабораторная установка для исследования элек-тростатического поля с помощью одинарного зонда.
6. Лабораторная установка для изучения длины све-товой волны и характеристик дифракционной ре-шетки.
7. Лабораторная установка для определения радиуса кривизны линзы и длины световой волны с помощью колец Ньютона.
8. Лабораторная установка для определения концен-трации растворов сахара и постоянной вращения.
9. Лабораторная установка для "Изучения внешнего фотоэффекта".
10. Установка для изучения спектра атома водорода и определения постоянной Ридберга.
11. Установка лабораторная для определения потен-циала возбуждения газа.
12. Установка для определения длины пробега частиц в воздухе.
13. Измеритель скорости счета УИМ2-2.
14. Монохроматоры МУМ-1.
15. Мультиметры АРРА 205, 207.
16. Осциллограф двухканальный GOS-620 FG.
17. Мерительный инструмент.

Учебные аудитории для проведения практических занятий, групповых и индивидуальных консультаций, текущего контроля и промежуточной аттестации:
Интерактивная доска, проектор;

Доска, мультимедийный проектор, экран.

Помещения для самостоятельной работы обучающихся: Персональные компьютеры с пакетом MS Office, с выходом в Интернет и с доступом в электронную информационно-образовательную среду университета.

Помещение для хранения и профилактического обслуживания учебного оборудования: Стеллажи для хранения учебно-методической документации, стеллажи и сейфы для хранения учебного оборудования, инструменты для ремонта оборудования.

Приложение 1

Учебно-методическое обеспечение самостоятельной работы обучающихся

По дисциплине «Физические основы механики и оптики» предусмотрена внеаудиторная самостоятельная работа обучающихся.

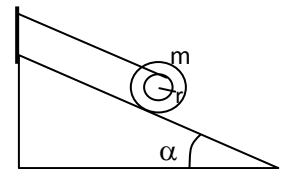
Внеаудиторная самостоятельная работа обучающихся включает в себя: проработку лекционного материала, изучение литературы по соответствующему разделу, решение индивидуальных контрольных работ, подготовку к выполнению лабораторных работ, подготовку к отчету по лабораторным работам.

Примерные индивидуальные контрольные работы

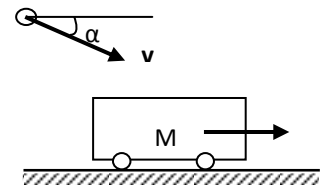
Контрольная работа № 1 «Механика. Электромагнетизм»

1. Точка движется в плоскости XOY по закону: $x=10\cos\omega t$; $y=10(1-\sin\omega t)$. Найти путь, пройденный телом за $2c$; угол между векторами скорости V и ускорения a ; траекторию движения $y=f(x)$.

2. На гладкой наклонной плоскости, составляющей угол $\alpha = 30^\circ$ с горизонтом, находится катушка с ниткой, свободный конец которой укреплен, как показано на рисунке. Масса катушки $m = 200$ г, её момент инерции относительно собственной оси $I = 0,45$ г·м², радиус намотанного слоя ниток $r = 3$ см. Найти ускорение оси катушки.



3. Платформа с песком общей массой $M = 2$ т стоит на рельсах на горизонтальном участке пути. В песок попадает снаряд массой $m = 8$ кг и застревает в нём. Пренебрегая трением, определить, с какой скоростью будет двигаться платформа, если в момент попадания скорость снаряда $v = 450$ м/с, а её направление – сверху вниз под $\alpha = 30^\circ$ к горизонту.



4. На двух бесконечных параллельных плоскостях равномерно распределены заряды с поверхностными плотностями σ_1 и σ_2 . Определить напряженность электрического поля: между плоскостями; вне плоскостей. Построить график изменения напряженности поля вдоль линии, перпендикулярной пластинам. Принять $\sigma_1 = \sigma$, $\sigma_2 = -2\sigma$, где $\sigma = 20$ нКл/м².

5. Два конденсатора электроёмкостями $C_1 = 3$ мкФ и $C_2 = 6$ мкФ соединены между собой и присоединены к батарее с ЭДС $E = 120$ В. Определить заряды конденсаторов и разность потенциалов U_1 и U_2 между их обкладками, если конденсаторы соединены: 1) параллельно, 2) последовательно.

6. По двум бесконечно длинным прямым параллельным проводам текут токи $I_1 = 20$ А и $I_2 = 30$ А в одном направлении. Расстояние между проводами $d = 10$ см. Вычислить индукцию B магнитного поля в точке, удаленной от обоих проводов на одинаковое расстояние $r = 10$ см.

Контрольная работа № 2 «Оптика. Квантовая, атомная и ядерная физика»

1. Определить длину волны света, падающего на дифракционную решетку, на каждый миллиметр которой нанесено $n=400$ штрихов. Спектр наблюдается на экране, расположенном на расстоянии $l=25$ см от решетки. Расстояние на экране между третьими максимумами слева и справа от центрального $\Delta x=27,4$ см.
2. Два николя расположены так, что угол между их главными плоскостями составляет $\varphi=60^\circ$. Во сколько раз уменьшится интенсивность естественного света I_0 при прохождении через оба николя. Коэффициент поглощения света в каждом никеле $k=0,05$.
3. Фотоэффект происходит под действием излучения с $\lambda = 0,09$ мкм. Определить работу выхода электронов из металла, если фототок прекращается при задерживающей разности потенциалов $U_z = 3,8$ В.
4. При какой скорости V электрона его дебройлевская длина волны будет равна: 1) 650 нм, 2) 3 пм?
5. При облучении металлической пластинки квантами света с энергией 3 эВ из нее выбиваются электроны, которые проходят ускоряющую разность потенциалов U . Работа выхода электронов из металла 2 эВ. Определите ускоряющую разность потенциалов U , если максимальная энергия ускоренных электронов E_e равна удвоенной энергии фотонов, выбивающих их из металла.

Перечень лабораторных работ

№ 1 «Применение законов сохранения для определения скорости полета пули»

№ 22(2) «Изучение закона Ома для замкнутой цепи»

№ 34 «Определение длины световой волны и характеристик характеристик дифракционной решетки»

№ 36 «Изучение явления фотоэффекта»

Оценочные средства для проведения промежуточной аттестации

а) Планируемые результаты обучения и оценочные средства для проведения промежуточной аттестации:

Структурный элемент компетенции	Планируемые результаты обучения	Оценочные средства
ОПК-1: Способен применять естественнонаучные и общинженерные знания, методы математического анализа и моделирования, теоретического и экспериментального исследования в профессиональной деятельности		
ОПК-1.1	Решает стандартные профессиональные задачи с применением естественнонаучных и общинженерных знаний, методов математического анализа и моделирования	<p>Перечень теоретических вопросов к зачету, зачету с оценкой:</p> <ol style="list-style-type: none"> 1. Кинематика поступательного движения. Понятие радиус-вектора, скорости и ускорения. Начальные условия. Прямая и обратная задачи механики. 2. Инерциальные системы отсчета. Понятие силы, массы и импульса. Основной закон динамики поступательного движения. 3. Законы сохранения в механике. Замкнутая система. Законы сохранения импульса и момента импульса. 4. Два способа описания взаимодействия. Движение частицы в одномерном стационарном поле. Связь между силой и потенциальной энергией. 5. Общее понятие о волнах. Характеристики бегущей волны. Волновое уравнение плоской волны. 6. Силы взаимодействия в природе. Электростатическое поле. Закон Кулона. Напряженность электростатического поля. Принцип суперпозиции. 7. Потенциал. Теорема о циркуляции вектора напряженности электростатического поля. Связь между напряженностью и потенциалом. 8. Электрический ток. Плотность тока. Уравнение непрерывности. Закон Ома в дифференциальной форме. 9. Единая природа электрического и магнитного поля. Поле движущегося заряда. Принцип суперпозиции магнитных полей. Закон Био-Савара. 10. Поток и циркуляция вектора индукции магнитного поля. Теорема Гаусса и теорема о циркуляции. 11. Закон электромагнитной индукции Фарадея. Правило Ленца. Вихревое

Структурный элемент компетенции	Планируемые результаты обучения	Оценочные средства
		<p>электрическое поле.</p> <p>12. Система уравнений Максвелла как обобщение разрозненных явлений электричества и магнетизма. Материальные уравнения.</p> <p>13. Свойства уравнений Максвелла. Предсказание существования электромагнитных волн.</p> <p>14. Способы поляризации естественного света. Призма Николя. Вращение плоскости поляризации света при прохождении через оптически активную среду.</p> <p>15. Шкала электромагнитных волн. Особенности оптического диапазона. Показатель преломления среды.</p> <p>16. Схема Юнга для наблюдения интерференции. Временная и пространственная когерентность.</p> <p>17. Явление дифракции. Дифракция Френеля и Фраунгофера. Принцип Гюйгенса-Френеля.</p>
ОПК-1.2	Решает профессиональные задачи с применением методов теоретического и экспериментального исследования	<p>1. Силы взаимодействия в природе. Электростатическое поле. Закон Кулона. Напряженность электростатического поля. Принцип суперпозиции.</p> <p>2. Потенциал. Теорема о циркуляции вектора напряженности электростатического поля. Связь между напряженностью и потенциалом.</p> <p>3. Электрический ток. Плотность тока. Уравнение непрерывности. Закон Ома в дифференциальной форме.</p> <p>4. Единая природа электрического и магнитного поля. Поле движущегося заряда. Принцип суперпозиции магнитных полей. Закон Био-Савара.</p> <p>5. Поток и циркуляция вектора индукции магнитного поля. Теорема Гаусса и теорема о циркуляции.</p> <p>6. Закон электромагнитной индукции Фарадея. Правило Ленца. Вихревое электрическое поле.</p> <p>7. Система уравнений Максвелла как обобщение разрозненных явлений электричества и магнетизма. Материальные уравнения.</p> <p>8. Свойства уравнений Максвелла. Предсказание существования электромагнитных волн.</p> <p>9. Способы поляризации естественного света. Призма Николя. Вращение плоскости</p>

Структурный элемент компетенции	Планируемые результаты обучения	Оценочные средства
		<p>поляризации света при прохождении через оптически активную среду.</p> <p>10. Шкала электромагнитных волн. Особенности оптического диапазона. Показатель преломления среды.</p> <p>11. Схема Юнга для наблюдения интерференции. Временная и пространственная когерентность.</p> <p>12. Явление дифракции. Дифракция Френеля и Фраунгофера. Принцип Гюйгенса-Френеля.</p>
УК-1.3	<p>При обработке информации отличает факты от мнений, интерпретаций, оценок, формирует собственные мнения и суждения, аргументирует свои выводы и точку зрения</p>	<p>1. Тепловое излучение тела. Закон Стефана-Больцмана. Закон смещения Вина. Гипотеза Планка.</p> <p>2. Фотоны. Давление света. Корпускулярно-волновой дуализм света.</p> <p>3. Волновые свойства частиц. Длина волны де Бройля. Экспериментальные подтверждения гипотезы де Бройля.</p> <p>4. Принцип неопределенности. Соотношение неопределенностей Гейзенберга. Особенности процесса измерения в квантовой механике.</p> <p>5. Физическое истолкование волн де Бройля. Волновая функция и ее свойства. Плотность вероятности обнаружения частицы.</p> <p>6. Основная задача квантовой механики. Нестационарное и стационарное уравнение Шрёдингера.</p> <p>7. Прохождение частицы через потенциальный барьер. Туннельный эффект.</p> <p>8. Планетарная модель атома. Постулаты Бора. Квантование энергии водородоподобной системы.</p> <p>9. Уравнение Шрёдингера для атома водорода. Квантование момента импульса. Правила отбора.</p> <p>10. Спин электрона. Квантовые числа, описывающие состояние электрона в атоме. Кратность вырождения энергетических уровней. Принцип Паули.</p> <p>11. Принцип тождественности одинаковых частиц. Бозоны и фермионы.</p> <p>12. Квантовые распределения.</p> <p>13. Свободные электроны в металле. Энергия Ферми. Зонная теория твердых тел.</p> <p>14. Масса и энергия связи атомного ядра.</p>

Структурный элемент компетенции	Планируемые результаты обучения	Оценочные средства
		<p>Зависимость удельной энергии связи от массового числа. Оболочечная модель ядра.</p> <p>15. Три вида β-распада. Энергетический спектр β-частиц. Нейтрино.</p> <p>16. Классификация элементарных частиц. Лептоны. Лептонный заряд.</p> <p>17. Адроны. Барионный заряд.</p> <p>Примеры практических заданий:</p> <p>1. Однородный стержень массой $M = 5$ кг, расположенный вертикально, может вращаться вокруг оси, проходящей через его верхний конец. В середину стержня попадает пуля массой $m = 10$ г, летящая горизонтально со скоростью $v = 10^3$ м/с, и застревает в нём. Определить кинетическую энергию стержня сразу после удара.</p> <p>2. Частица массы $m_1 = 0,1$ кг, движущаяся со скоростью $v = 3$ м/с, испытала упругое соударение с покоившейся частицей массы $m_2 = 0,2$ кг. Определить какую кинетическую энергию приобрела вторая частица, если первая отскочила под прямым углом к своему первоначальному направлению.</p> <p>3. Квадратная проволочная рамка расположена в одной плоскости с длинным прямым проводом так, что две ее стороны параллельны проводу. По рамке и проводу текут одинаковые токи $I = 1$ кА. Определить силу F, действующую на рамку, если ближайшая к проводу сторона рамки находится на расстоянии, равном ее длине.</p> <p>4. Колебательный контур имеет емкость $C = 10$ мкФ, индуктивность $L = 25$ мГн и активное сопротивление $R = 1$ Ом. Через сколько колебаний амплитуда тока в этом контуре уменьшится в e раз?</p> <p>5. Два бесконечно длинных прямых провода скрещены под прямым углом. По проводам текут токи $I_1 = 80$ А и $I_2 = 60$ А. Расстояние d между проводами равно 10 см. определить магнитную индукцию B в точке, одинаково удаленной от обоих проводников.</p> <p>6. Концы цепи, состоящей из последовательно включенных конденсатора и активного сопротивления $R = 110$ Ом, подсоединили к переменному напряжению с амплитудным</p>

Структурный элемент компетенции	Планируемые результаты обучения	Оценочные средства
		<p>значением $U_m = 110$ В. При этом амплитуда установившегося тока в цепи $I_m = 0,50$ А. Найти разность фаз между током и подаваемым напряжением.</p> <p>7. Свет с $\lambda = 589$ нм падает нормально на дифракционную решетку с периодом $d = 2,5$ мкм, содержащую $N = 10000$ штрихов. Найти угловую ширину дифракционного максимума второго порядка.</p> <p>8. Пучок естественного света падает на систему из двух последовательно расположенных поляризаторов, угол между плоскостями пропускания которых составляет 30°. Коэффициент поглощения первого поляризатора составляет 10%, а второго – 20%. Какая часть интенсивности света пройдет через эту оптическую систему?</p> <p>9. Черное тело нагрели от температуры 600К до 2400К. Во сколько раз увеличилась общая тепловая энергия, излучаемая телом? На сколько изменилась длина волны, соответствующая максимуму энергии излучения и спектральный состав излучения?</p> <p>10. Определить наименьший задерживающий потенциал, необходимый для прекращения эмиссии с поверхности фотокатода, если он освещается излучением с длиной волны 0,4 мкм, а красная граница для материала катода равна 0,67 мкм</p> <p>11. Фотон с энергией 1 МэВ рассеялся на свободном покоившемся электроне. Найти кинетическую энергию электрона отдачи, если в результате рассеяния длина волны фотона изменилась на 25%</p> <p>12. При движении частицы вдоль оси x скорость ее может быть определена с точностью (ошибкой) до 1 см/с. Найти неопределенность координаты, если частицей является: 1) электрон, 2) дробишка массой 0,1г</p> <p>13. Собственная функция, описывающая состояние микрочастицы в бесконечно глубокой потенциальной яме шириной l, имеет вид $\psi_n(x) = C \sin \frac{\pi n}{l} x$. Используя условия нормировки, определить постоянную C.</p> <p>14. Вычислить радиусы первых трех орбит электрона в атоме водорода</p>

Структурный элемент компетенции	Планируемые результаты обучения	Оценочные средства
		15. Найти наибольшую и наименьшую длины волн серии Пашена в спектре излучения водорода. Сравнить полученные значения с длинами волн видимого излучения

б) Порядок проведения промежуточной аттестации, показатели и критерии оценивания:

Согласно учебному плану видами промежуточной аттестации по дисциплине «Физика» является зачет и зачет с оценкой.

Показатели и критерии оценивания зачету с оценкой:

– на оценку **«отлично»** – результирующий рейтинг обучающегося должен составлять 85 – 100% от максимальной суммы баллов за семестр. Обучающийся показывает высокий уровень сформированности компетенций, всестороннее, систематическое и глубокое знание учебного материала, свободно выполняет практические задания, свободно оперирует знаниями, умениями, навыками применения их в ситуациях повышенной сложности;

– на оценку **«хорошо»** – результирующий рейтинг обучающегося должен составлять 70 – 84% от максимальной суммы баллов за семестр. Обучающийся должен показать средний уровень сформированности компетенций: основные знания, умения освоены, но допускаются незначительные ошибки, неточности, затруднения при аналитических операциях, переносе знаний и умений на новые, нестандартные ситуации;

– на оценку **«удовлетворительно»** – результирующий рейтинг обучающегося должен составлять 50 – 69% от максимальной суммы баллов за семестр. Студент должен показать пороговый уровень сформированности компетенций, то есть он должен иметь знания на уровне воспроизведения и объяснения информации, интеллектуальные навыки решения простых задач; в ходе контрольных мероприятий допускаются ошибки, проявляется отсутствие отдельных знаний, умений, навыков, обучающийся испытывает значительные затруднения при оперировании знаниями и умениями при их переносе на новые ситуации.

– на оценку **«неудовлетворительно»** – результирующий рейтинг обучающегося составляет менее 50% от максимальной суммы баллов за семестр результат обучения не достигнут, компетенции не сформированы, студент не может показать знания на уровне воспроизведения и объяснения информации, не может показать интеллектуальные навыки решения простых задач.